



Arbeitsblätter zum Ausdrucken von [sofatutor.com](https://www.sofatutor.com)

Herztätigkeit – Methoden der Überprüfung



- 1 **Gib an, auf welchen Bildern Menschen ihren Puls messen.**
- 2 **Gib an, mit welchen Methoden sich die Herztätigkeit überprüfen lässt.**
- 3 **Stelle den Bau des menschlichen Herzens dar.**
- 4 **Beschreibe, wie ein typischer Herzzyklus abläuft.**
- 5 **Überprüfe, welche Aussagen über den Blutdruck stimmen und welche nicht.**
- 6 **Beurteile, welche Messungen der Herztätigkeit auf eine Krankheit hindeuten.**
- + **mit vielen Tipps, Lösungsschlüsseln und Lösungswegen zu allen Aufgaben**







Das komplette Paket, **inkl. aller Aufgaben, Tipps, Lösungen und Lösungswege** gibt es für alle Abonnenten von [sofatutor.com](https://www.sofatutor.com)



Gib an, auf welchen Bildern Menschen ihren Puls messen.

Wähle die richtigen Bilder aus.





Unsere Tipps für die Aufgaben

1
von 6

Gib an, auf welchen Bildern Menschen ihren Puls messen.

1. Tipp

Der Puls wird am besten da gemessen werden, wo Adern dicht unter der Haut verlaufen.

2. Tipp

In den Haaren verlaufen keine Adern.

3. Tipp

Der Puls beschreibt die Anzahl an Herzschlägen pro Minute. Um diesen zu messen, ist daher eine Uhr hilfreich: Mit ihr kannst du die Zeit von einer Minute stoppen.



Lösungen und Lösungswege für die Aufgaben

1
von 6

Gib an, auf welchen Bildern Menschen ihren Puls messen.

Lösungsschlüssel: C, D

Am **Handgelenk** und am **Hals** kann man den Puls besonders gut messen. Generell lässt sich der Puls dort gut erfühlen, wo Adern dicht unter nur dünner Haut verlaufen. Die Nasenspitze ist daher nicht besonders gut geeignet. In den Haaren befinden sich keine Adern, darum kommen auch sie nicht infrage für eine Pulsmessung.