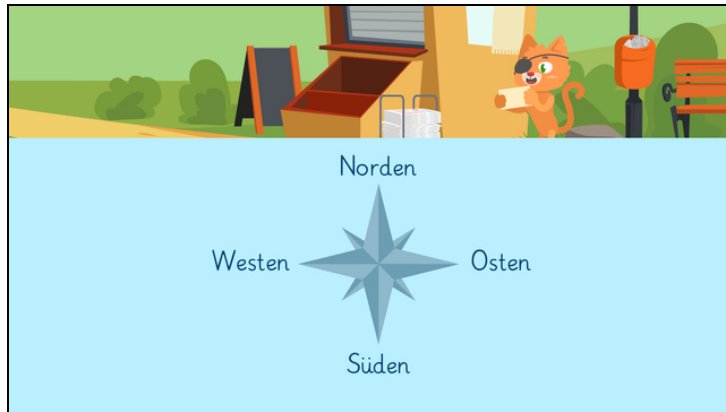




Arbeitsblätter zum Ausdrucken von [sofatutor.com](https://www.sofatutor.com)

Norden, Osten, Süden, Westen - Die Himmelsrichtungen



- 1 Was ist eine Windrose?
- 2 Welche Himmelsrichtungen gibt es?
- 3 Wie sind die Himmelsrichtungen an der Windrose angeordnet?
- 4 Wo ist die Sonne zu welcher Tageszeit?
- 5 In welcher Richtung ist Westen?
- 6 Wohin zeigen die Himmelsrichtungen?
- + mit vielen Tipps, Lösungsschlüsseln und Lösungswegen zu allen Aufgaben



Das komplette Paket, **inkl. aller Aufgaben, Tipps, Lösungen und Lösungswege** gibt es für alle Abonnenten von [sofatutor.com](https://www.sofatutor.com)



Was ist eine Windrose?

Wähle die richtige Antwort aus.

A




eine besondere Rose

B



ein besonderer Stern

C



ein Messgerät

D



eine Figur zur Anzeige der Himmelsrichtungen



Unsere Tipps für die Aufgaben

1
von 6

Was ist eine Windrose?

1. Tipp

Windrosen findest du häufig auf **Karten** oder in **Kompassen**.

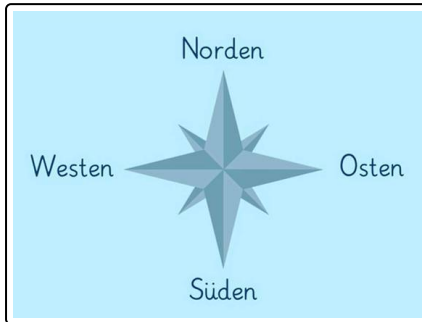


Lösungen und Lösungswege für die Aufgaben

1
von 6

Was ist eine Windrose?

Lösungsschlüssel: D



Die **Windrose** ist eine Figur, welche die **Himmelsrichtungen** anzeigt. Du findest sie zum Beispiel auf **Karten** oder in **Kompassen**.