




Arbeitsblätter zum Ausdrucken von [sofatutor.com](https://www.sofatutor.com)

# Was ist ein Würfel?



- 1 Welche Form haben die Flächen des Würfels?
- 2 Welche Aussagen über den Würfel stimmen?
- 3 Wie viele Kanten und Ecken hat der Würfel?
- 4 Welche Gegenstände haben die Form eines Würfels?
- 5 Wie heißen die Teile des Würfels?
- 6 Welches Netz passt zum Würfel?
- + mit vielen Tipps, Lösungsschlüsseln und Lösungswegen zu allen Aufgaben

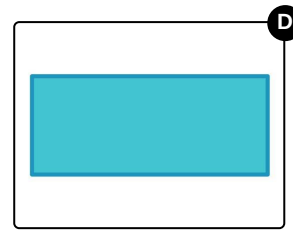
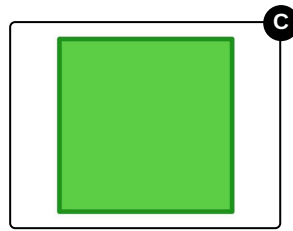
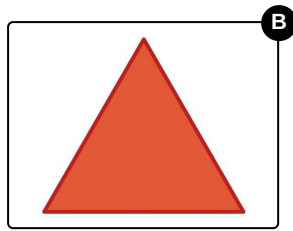
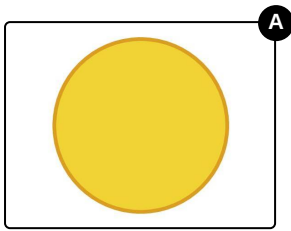


Das komplette Paket, inkl. aller Aufgaben, Tipps, Lösungen und Lösungswege gibt es für alle Abonnenten von [sofatutor.com](https://www.sofatutor.com)



## Welche Form haben die Flächen des Würfels?

Wähle die richtige Form aus.






## Unsere Tipps für die Aufgaben

1  
von 6

### Welche Form haben die Flächen des Würfels?

#### 1. Tipp



Der Würfel hat **sechs Flächen**.

---




## Lösungen und Lösungswege für die Aufgaben

1  
von 6

### Welche Form haben die Flächen des Würfels?

Lösungsschlüssel: C



Der Würfel hat sechs Flächen, die die **Form eines Quadrats** haben.