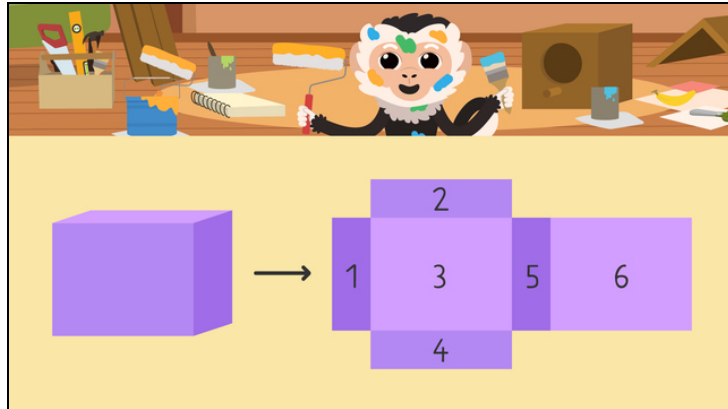




Arbeitsblätter zum Ausdrucken von [sofatutor.com](https://www.sofatutor.com)

# Was ist eine Seitenfläche?



- 1 Welche Formen haben die Seitenflächen der Pyramide?
- 2 Wie heißen die Flächen eines geometrischen Körpers?
- 3 Wie viele Seitenflächen hat der Körper?
- 4 Welche Körper haben gekrümmte Seitenflächen?
- 5 Wie viele Flächen haben die Körper?
- 6 Wie viele Seitenflächen hat der zusammengesetzte Körper?
- + mit vielen Tipps, Lösungsschlüsseln und Lösungswegen zu allen Aufgaben




Das komplette Paket, inkl. aller Aufgaben, Tipps, Lösungen und Lösungswege gibt es für alle Abonnenten von [sofatutor.com](https://www.sofatutor.com)



## Welche Formen haben die Seitenflächen der Pyramide?

Wähle die passenden Antworten aus.



&nbsp;

**A**

**B**

**C**

**D**

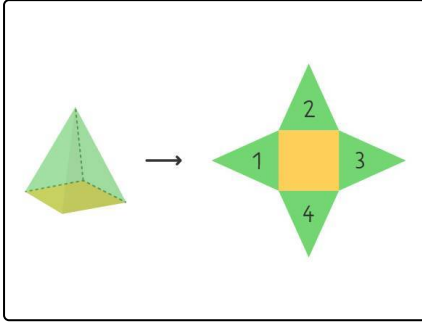


## Unsere Tipps für die Aufgaben

1  
von 6

### Welche Formen haben die Seitenflächen der Pyramide?

#### 1. Tipp



Auch die **Grundfläche** der Pyramide ist eine Seitenfläche. Sie hat jedoch eine andere Form als die anderen Seitenflächen.

---




## Lösungen und Lösungswege für die Aufgaben

1  
von 6

### Welche Formen haben die Seitenflächen der Pyramide?

Lösungsschlüssel: A, C



Die **grünen Seitenflächen der Pyramide** haben die Form von **Dreiecken**.

Die **gelbe Grundfläche** ist auch eine Seitenfläche. Sie hat die Form eines **Quadrats**.