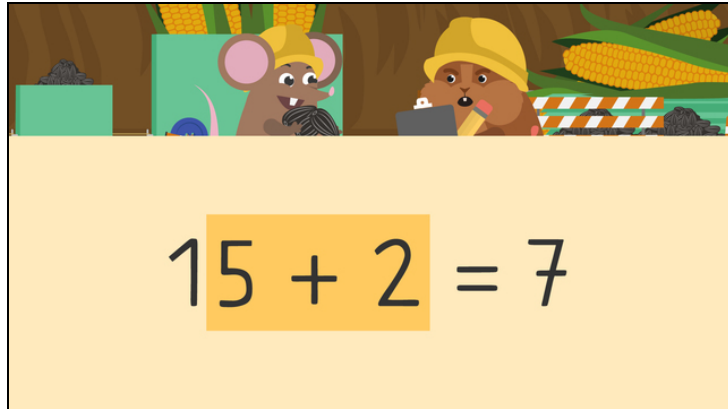




Arbeitsblätter zum Ausdrucken von [sofatutor.com](https://www.sofatutor.com)

Rechenricks mit Zehnern



- 1 Welche Zahlen werden dargestellt?
- 2 Wie lauten die Ergebnisse der Aufgaben?
- 3 Wie lauten die Ergebnisse der Aufgaben?
- 4 Welche Aufgaben sind miteinander verwandt?
- 5 Welche Ergebnisse passen zu den Aufgaben?
- 6 Wie lauten die Ergebnisse der Aufgaben?
- + mit vielen Tipps, Lösungsschlüsseln und Lösungswegen zu allen Aufgaben




Das komplette Paket, inkl. aller Aufgaben, Tipps, Lösungen und Lösungswege gibt es für alle Abonnenten von [sofatutor.com](https://www.sofatutor.com)




Welche Zahlen werden dargestellt?

Ordne jeder Zahl das passende Bild zu.



A



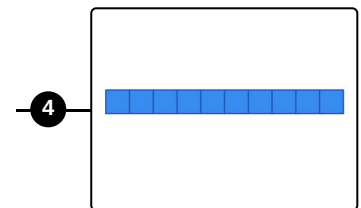
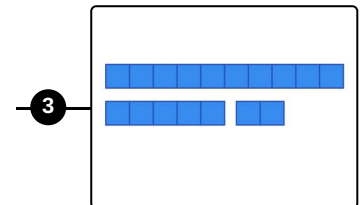
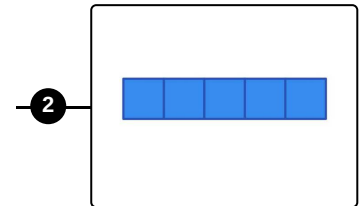
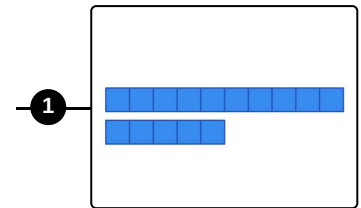
B



C



D



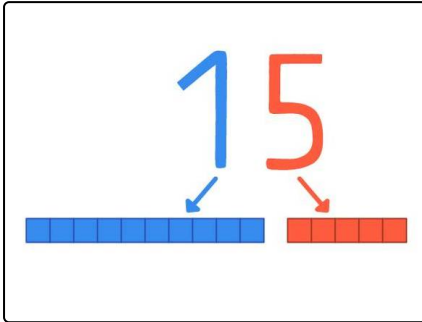


Unsere Tipps für die Aufgaben

1
von 6

Welche Zahlen werden dargestellt?

1. Tipp



Die Zahl **15** besteht aus **1 Zehner** und **5 Einern**.



Lösungen und Lösungswege für die Aufgaben

1
von 6

Welche Zahlen werden dargestellt?

Lösungsschlüssel: A—2 // B—4 // C—1 // D—3

