




Arbeitsblätter zum Ausdrucken von [sofatutor.com](https://www.sofatutor.com)

Geldbeträge kennenlernen und vergleichen



- 1 **Wie viel Cent ergeben einen Euro?**
- 2 Welchen Wert haben diese Münzen und Scheine?
- 3 Was ist mehr wert?
- 4 Was ist am meisten wert?
- 5 Welcher Geldbetrag ist am größten?
- 6 Wie viel Geld fehlt Zazie, der Waschbärin, damit sie genauso viel wie Freddie hat?
- + mit vielen Tipps, Lösungsschlüsseln und Lösungswegen zu allen Aufgaben

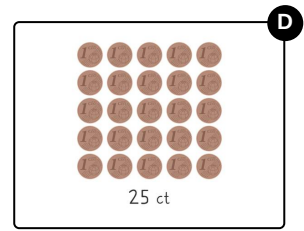
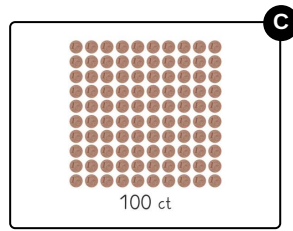
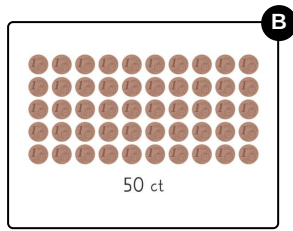
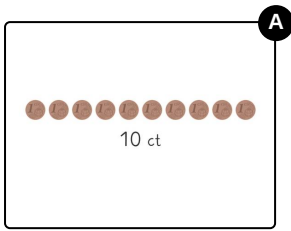


Das komplette Paket, **inkl. aller Aufgaben, Tipps, Lösungen und Lösungswege** gibt es für alle Abonnenten von [sofatutor.com](https://www.sofatutor.com)



Wie viel Cent ergeben einen Euro?

Wähle die richtige Anzahl an Centmünzen aus.





Unsere Tipps für die Aufgaben

1
von 6

Wie viel Cent ergeben einen Euro?

1. Tipp

120 ct kannst du in **1 € und 20 ct** umwandeln.

Aus wie vielen Cent besteht dann ein Euro?



Lösungen und Lösungswege für die Aufgaben

1
von 6

Wie viel Cent ergeben einen Euro?

Lösungsschlüssel: C

