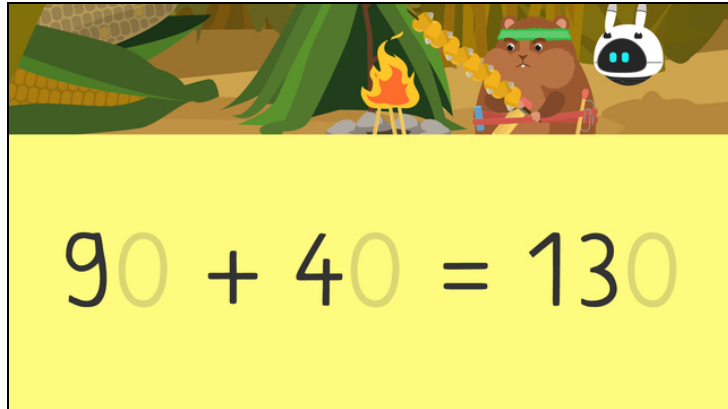




Arbeitsblätter zum Ausdrucken von [sofatutor.com](https://www.sofatutor.com)

Über den Hunderter addieren



- 1 Welche Zahlen werden dargestellt?
- 2 Wie lauten die Ergebnisse der Aufgaben?
- 3 Wie kannst du die Aufgabe $130 + 80$ schrittweise berechnen?
- 4 Wie lauten die Ergebnisse der Aufgaben?
- 5 Bei welchen Aufgaben wurde richtig gerechnet?
- 6 Wie viele Tüten und wie viele Erdnüsse hat Rocky insgesamt?
- + mit vielen Tipps, Lösungsschlüsseln und Lösungswegen zu allen Aufgaben



Das komplette Paket, inkl. aller Aufgaben, Tipps, Lösungen und Lösungswege gibt es für alle Abonnenten von [sofatutor.com](https://www.sofatutor.com)



Welche Zahlen werden dargestellt?

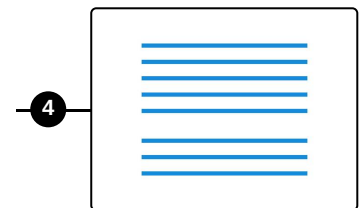
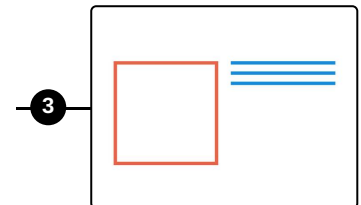
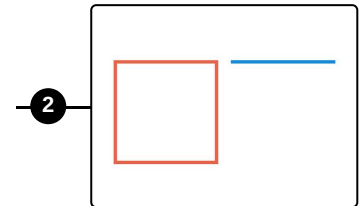
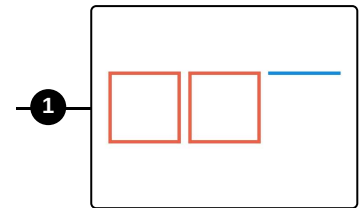
Ordne die Zahlen zu den passenden Darstellungen.

130 **A**

80 **B**

210 **C**

110 **D**



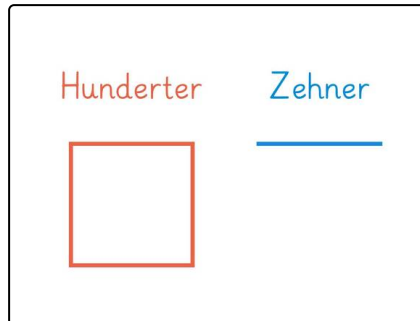


Unsere Tipps für die Aufgaben

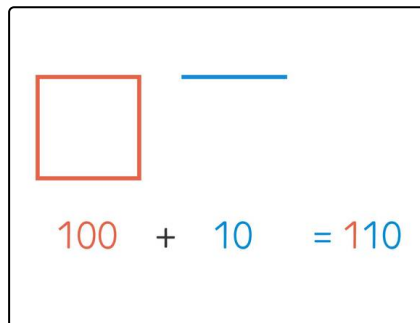
1
von 6

Welche Zahlen werden dargestellt?

1. Tipp



2. Tipp









Lösungen und Lösungswege für die Aufgaben

1
von 6

Welche Zahlen werden dargestellt?

Lösungsschlüssel: A—3 // B—4 // C—1 // D—2

 $100 + 30 = 130$	 80
 $100 + 10 = 110$	 $200 + 10 = 210$

Hier siehst du, welche Darstellung zu welcher Zahl gehört.