




Arbeitsblätter zum Ausdrucken von [sofatutor.com](https://www.sofatutor.com)

# Halbschriftliche Addition



$425 + 361 = \underline{\underline{786}}$

H  $400 + 300 = 700$

Z  $20 + 60 = 80$

E  $5 + 1 = 6$

- 1 **Wie kannst du die Zahlen zerlegen?**
- 2 **Wie lautet das Ergebnis der Aufgabe?**
- 3 **Wie lautet das Ergebnis dieser Aufgabe?**
- 4 **Wie lautet das Ergebnis der Aufgabe?**
- 5 **Welche Rechnungen stimmen nicht?**
- 6 **Wie viele Maiskörner hat Rocky insgesamt?**
- + **mit vielen Tipps, Lösungsschlüsseln und Lösungswegen zu allen Aufgaben**



Das komplette Paket, **inkl. aller Aufgaben, Tipps, Lösungen und Lösungswege** gibt es für alle Abonnenten von [sofatutor.com](https://www.sofatutor.com)



## Wie kannst du die Zahlen zerlegen?

Ordne den Zahlen die passende Zerlegung zu.

**A**  $228$

**B**  $361$

**C**  $631$

**D**  $822$

**1**  $800 + 20 + 2$

**2**  $600 + 30 + 1$

**3**  $200 + 20 + 8$

**4**  $300 + 60 + 1$




## Unsere Tipps für die Aufgaben



1  
von 6

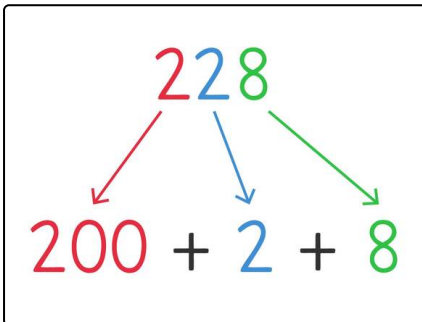
## Wie kannst du die Zahlen zerlegen?

### 1. Tipp



Die Zahl 228 besteht aus **2 Hundertern**, **2 Zehnern** und **8 Einern**.

### 2. Tipp



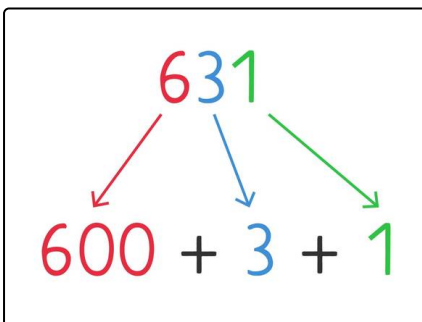
228 setzt sich also so zusammen: **200 + 20 + 8**.

### 3. Tipp



Die Zahl 631 besteht aus **6 Hundertern**, **3 Zehnern** und **1 Einer**.

### 4. Tipp



631 setzt sich also so zusammen: **600 + 30 + 1**.

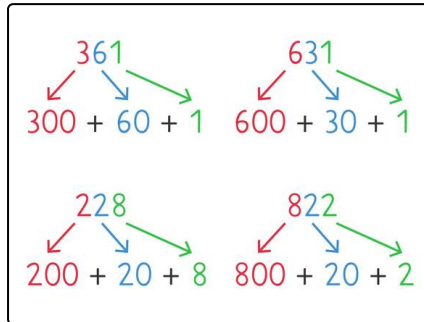


## Lösungen und Lösungswege für die Aufgaben

1  
von 6

### Wie kannst du die Zahlen zerlegen?

Lösungsschlüssel: A—3 // B—4 // C—2 // D—1



Hier siehst du die **Zahlen** und deren **Zerlegungen** in Hunderter, Zehner und Einer.