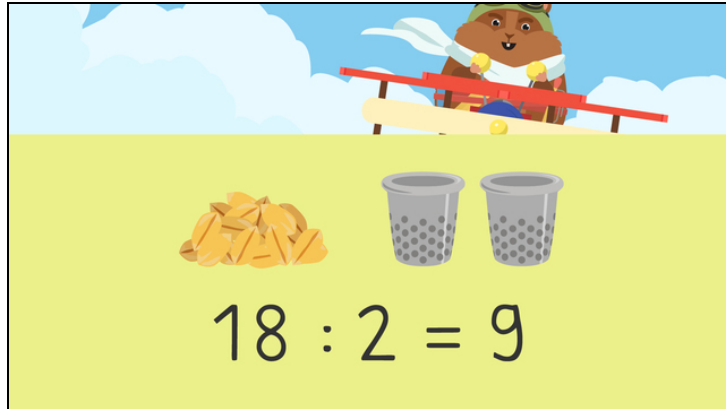




Arbeitsblätter zum Ausdrucken von [sofatutor.com](https://www.sofatutor.com)

Teilen – Wie löse ich Divisionsaufgaben?



- 1 Welche Geteiltaufgabe passt zum Bild?
- 2 Was sind die Umkehraufgaben dieser Geteiltaufgaben?
- 3 Wie lauten die Ergebnisse der Aufgaben?
- 4 Wie lauten die Ergebnisse der Aufgaben?
- 5 Wie lauten die Umkehraufgaben und die Ergebnisse der Geteiltaufgaben?
- 6 Bei welchen Aufgaben wurde falsch gerechnet?
- + mit vielen Tipps, Lösungsschlüsseln und Lösungswegen zu allen Aufgaben

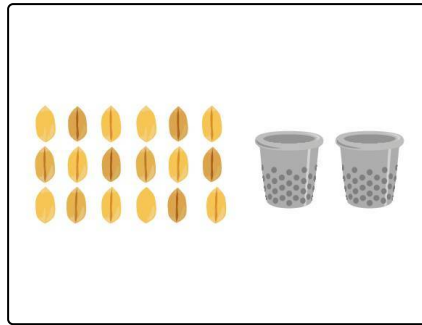


Das komplette Paket, inkl. aller Aufgaben, Tipps, Lösungen und Lösungswege gibt es für alle Abonnenten von [sofatutor.com](https://www.sofatutor.com)



Welche Geteiltaufgabe passt zum Bild?

Wähle die passende Geteiltaufgabe aus.



$20 : 8$

A

$18 : 3$

B

$18 : 2$

C

$2 : 18$

D




Unsere Tipps für die Aufgaben

1
von 6

Welche Geteiltaufgabe passt zum Bild?

1. Tipp



Es sind **18** Körner und **2** Eimer.

2. Tipp

18 Körner sollen auf **2** Eimer **verteilt** werden.

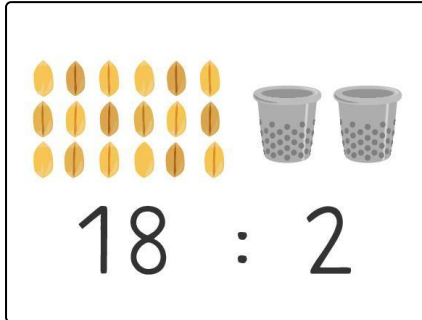


Lösungen und Lösungswege für die Aufgaben

1
von 6

Welche Geteiltaufgabe passt zum Bild?

Lösungsschlüssel: C



Es sind **18** Körner und **2** Eimer.

Die **18** Körner sollen auf die **2** Eimer **verteilt** werden.

Also lautet die passende Geteiltaufgabe: **18 : 2**.