



Arbeitsblätter zum Ausdrucken von [sofatutor.com](https://www.sofatutor.com)

# Minusaufgaben - Einführung



- 1 **Wie viele Gegenstände siehst du auf den Bildern?**
- 2 Welche Minusaufgabe passt zu diesem Bild?
- 3 Welche Bilder und Minusaufgaben passen zusammen?
- 4 Welche Bilder und Minusaufgaben passen zusammen?
- 5 Wie lauten die Minusaufgaben zu den Bildern?
- 6 Welche Umkehraufgabe passt zu welcher Minusaufgabe?
- + mit vielen Tipps, Lösungsschlüsseln und Lösungswegen zu allen Aufgaben




Das komplette Paket, **inkl. aller Aufgaben, Tipps, Lösungen und Lösungswege** gibt es für alle Abonnenten von [sofatutor.com](https://www.sofatutor.com)




## Wie viele Gegenstände siehst du auf den Bildern?


Ordne die Bilder der richtigen Anzahl zu.




A



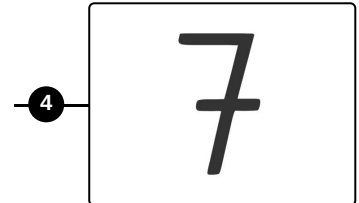
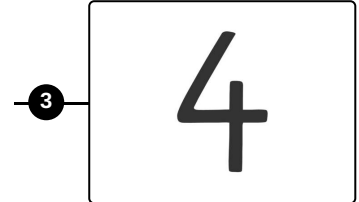
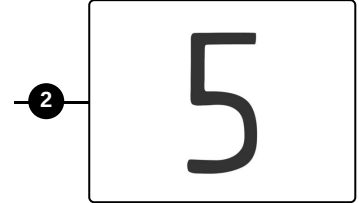
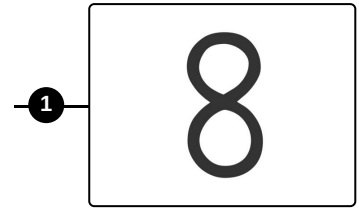
B



C



D





## Unsere Tipps für die Aufgaben

1  
von 6

### Wie viele Gegenstände siehst du auf den Bildern?

#### 1. Tipp



Immer **5** Gegenstände bilden zusammen ein **Päckchen**.

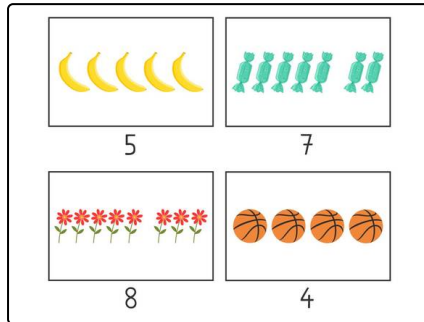


## Lösungen und Lösungswege für die Aufgaben

1  
von 6

### Wie viele Gegenstände siehst du auf den Bildern?

Lösungsschlüssel: A—2 // B—4 // C—1 // D—3



Immer **5** Gegenstände bilden zusammen ein **Päckchen**.