




Arbeitsblätter zum Ausdrucken von [sofatutor.com](https://www.sofatutor.com)

# Was sind Flächen?



- 1 **Wie heißt diese Fläche?**
- 2 **Wie heißen die Flächen?**
- 3 **Welche Sätze sind richtig?**
- 4 **Welche Bilder zeigen Flächen?**
- 5 **Wo findest du Flächen auf dem Bild?**
- 6 **Was sind Flächen, was sind Körper?**
- + **mit vielen Tipps, Lösungsschlüsseln und Lösungswegen zu allen Aufgaben**




Das komplette Paket, **inkl. aller Aufgaben, Tipps, Lösungen und Lösungswege** gibt es für alle Abonnenten von [sofatutor.com](https://www.sofatutor.com)



## Wie heißt diese Fläche?

Wähle den richtigen Namen aus.



Kreis A

Rechteck B

Quadrat C

Dreieck D

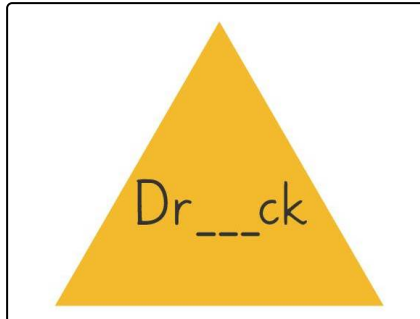


## Unsere Tipps für die Aufgaben

1  
von 6

### Wie heißt diese Fläche?

#### 1. Tipp



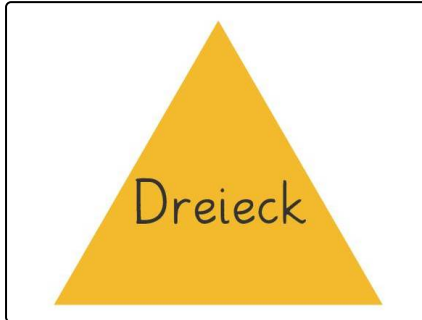


## Lösungen und Lösungswege für die Aufgaben

1  
von 6

### Wie heißt diese Fläche?

Lösungsschlüssel: D



Die richtige Antwort lautet: **Dreieck**.