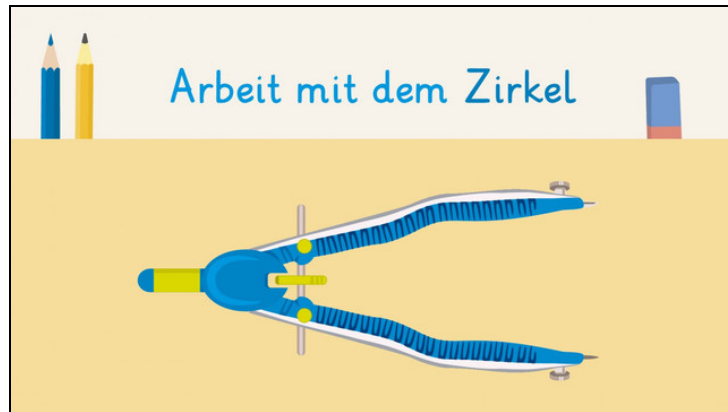




Arbeitsblätter zum Ausdrucken von [sofatutor.com](https://www.sofatutor.com)

# Arbeit mit dem Zirkel



- 1 Mit welchem Gegenstand kannst du Kreise zeichnen?
- 2 Wie heißen die Teile eines Zirkels?
- 3 Wo stellst du den Radius eines Kreises ein?
- 4 Wie zeichnest du einen Kreis mit dem Zirkel?
- 5 Welche Aussagen sind richtig?
- 6 Wie groß ist der Radius des Kreises?
- + mit vielen Tipps, Lösungsschlüsseln und Lösungswegen zu allen Aufgaben


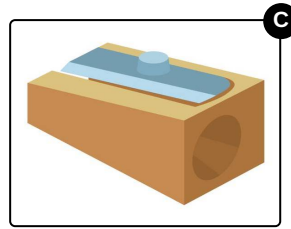
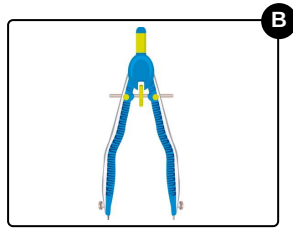
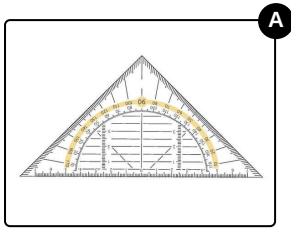


Das komplette Paket, inkl. aller Aufgaben, Tipps, Lösungen und Lösungswege gibt es für alle Abonnenten von [sofatutor.com](https://www.sofatutor.com)



## Mit welchem Gegenstand kannst du Kreise zeichnen?

Wähle das richtige Bild aus.





## Unsere Tipps für die Aufgaben

1  
von 6

### Mit welchem Gegenstand kannst du Kreise zeichnen?

#### 1. Tipp

Mit einem Geodreieck kannst du gerade Linien zeichnen.

---

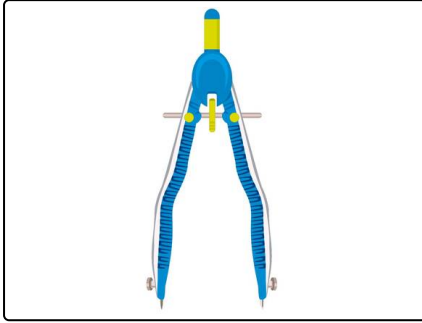


## Lösungen und Lösungswege für die Aufgaben

1  
von 6

### Mit welchem Gegenstand kannst du Kreise zeichnen?

Lösungsschlüssel: B



Mit einem **Zirkel** kannst du Kreise zeichnen.