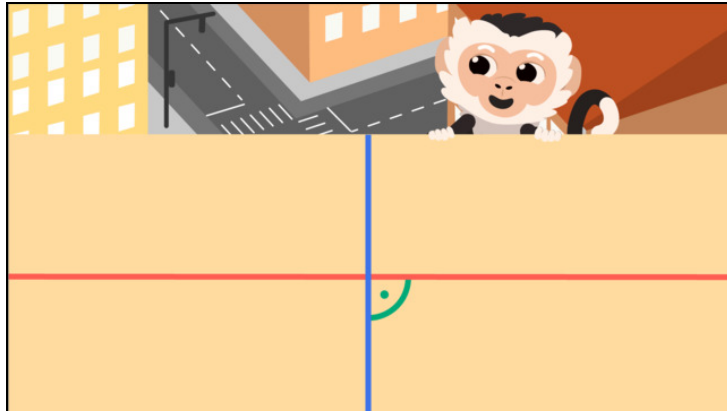




Arbeitsblätter zum Ausdrucken von [sofatutor.com](https://www.sofatutor.com)

Senkrechte Linien



- 1 **Wie viele rechte Winkel hat ein Geodreieck?**
- 2 **Wie lautet der Merksatz?**
- 3 **Wie heißen die verschiedenen Linien?**
- 4 **Welche Linien sind senkrechte Geraden?**
- 5 **Welche Geraden sind senkrecht zueinander?**
- 6 **Wie viele rechte Winkel siehst du?**
- + **mit vielen Tipps, Lösungsschlüsseln und Lösungswegen zu allen Aufgaben**

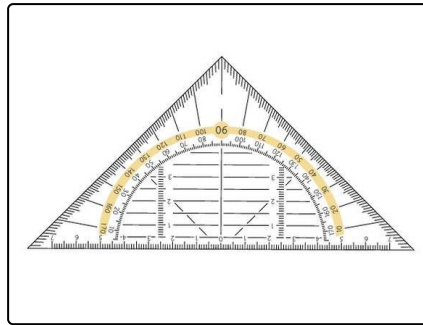


Das komplette Paket, **inkl. aller Aufgaben, Tipps, Lösungen und Lösungswege** gibt es für alle Abonnenten von [sofatutor.com](https://www.sofatutor.com)



Wie viele rechte Winkel hat ein Geodreieck?

Wähle die richtige Antwort aus.



5 A

1 B

2 C

3 D

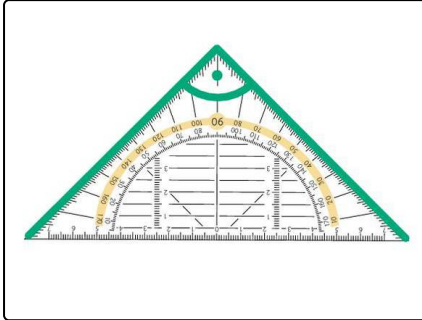


Unsere Tipps für die Aufgaben

1
von 6

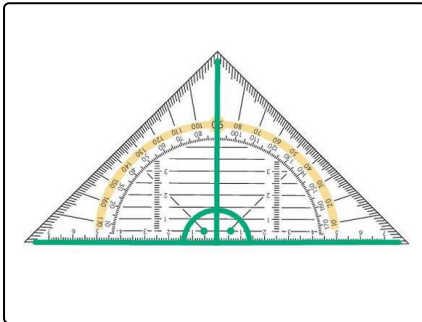
Wie viele rechte Winkel hat ein Geodreieck?

1. Tipp



Das ist einer der rechten Winkel. Es gibt aber noch mehr.

2. Tipp



Hier siehst du zwei rechte Winkel auf dem Geodreieck.

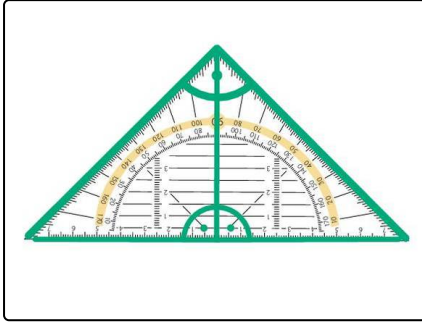


Lösungen und Lösungswege für die Aufgaben

1
von 6

Wie viele rechte Winkel hat ein Geodreieck?

Lösungsschlüssel: D



Ein Geodreieck hat **3 rechte Winkel**.