



Arbeitsblätter zum Ausdrucken von [sofatutor.com](https://www.sofatutor.com)

# Was ist ein Quadrat?



- 1 Welches Bild zeigt ein Quadrat?
- 2 Welches Bild zeigt ein Quadrat?
- 3 Wie viele Quadrate verstecken sich in diesem Bild?
- 4 Welcher Gegenstand hat die Form eines Quadrats?
- 5 Welcher Gegenstand ist ein Rechteck und welcher ist ein Quadrat?
- + mit vielen Tipps, Lösungsschlüsseln und Lösungswegen zu allen Aufgaben


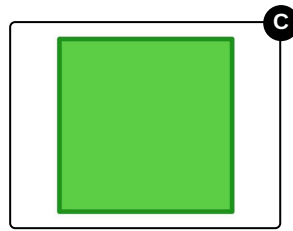
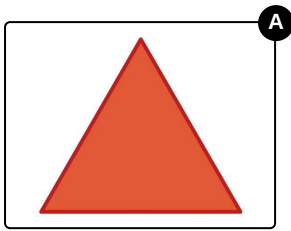


Das komplette Paket, **inkl. aller Aufgaben, Tipps, Lösungen und Lösungswege** gibt es für alle Abonnenten von [sofatutor.com](https://www.sofatutor.com)



## Welches Bild zeigt ein Quadrat?

Wähle das richtige Bild aus.





## Unsere Tipps für die Aufgaben

1  
von 5

### Welches Bild zeigt ein Quadrat?

#### 1. Tipp



Bei Quadraten sind alle vier Seiten **gleich lang**.

---




## Lösungen und Lösungswege für die Aufgaben

1  
von 5

### Welches Bild zeigt ein Quadrat?

Lösungsschlüssel: C



Quadrate und Rechtecke haben vier Ecken und vier Seiten. Bei Quadraten sind alle vier Seiten gleich lang.

Die **grüne** Form zeigt ein **Quadrat**.

Die **blaue** Form kann kein Quadrat sein, weil **nicht** alle vier Seiten **gleich lang** sind.