




Arbeitsblätter zum Ausdrucken von [sofatutor.com](https://www.sofatutor.com)

Was ist ein Kreis?



- 1 **Wie heißt diese Form?**
- 2 Welches Bild zeigt einen Kreis?
- 3 Wo sind Kreise in diesem Bild?
- 4 Wie viele Kreise kannst du hier sehen?
- 5 Welcher Gegenstand hat die Form eines Kreises?
- 6 Wie heißen diese Formen?
- + mit vielen Tipps, Lösungsschlüsseln und Lösungswegen zu allen Aufgaben




Das komplette Paket, **inkl. aller Aufgaben, Tipps, Lösungen und Lösungswege** gibt es für alle Abonnenten von [sofatutor.com](https://www.sofatutor.com)



Wie heißt diese Form?

Wähle die passende Antwort aus.



- A Quadrat
- B Dreieck
- C Kreis
- D Rechteck




Unsere Tipps für die Aufgaben

1
von 6

Wie heißt diese Form?

1. Tipp



Das hier ist ein Dreieck.

2. Tipp



Ein Quadrat hat vier Ecken.



Lösungen und Lösungswege für die Aufgaben

1
von 6

Wie heißt diese Form?

Lösungsschlüssel: C

Das Bild zeigt einen **Kreis**. Er ist rund und hat keine Ecken und keine Kanten.