




Arbeitsblätter zum Ausdrucken von [sofatutor.com](https://www.sofatutor.com)

Uhrzeit – Was ist eine halbe Stunde?



- 1 **Wie spät ist es?**
- 2 Wie viele Minuten hat eine halbe Stunde?
- 3 Was weißt du über eine halbe Stunde?
- 4 Wie spät ist es?
- 5 Wie spät ist es?
- 6 Welche Zahlen fehlen?
- + mit vielen Tipps, Lösungsschlüsseln und Lösungswegen zu allen Aufgaben




Das komplette Paket, **inkl. aller Aufgaben, Tipps, Lösungen und Lösungswege** gibt es für alle Abonnenten von [sofatutor.com](https://www.sofatutor.com)



Wie spät ist es?

Wähle alle richtigen Lösungen aus.




A



[sofatutor.ch/ep/3R9c](https://www.sofatutor.ch/ep/3R9c)

B




[sofatutor.ch/ep/3R9d](https://www.sofatutor.ch/ep/3R9d)

C



[sofatutor.ch/ep/3R9e](https://www.sofatutor.ch/ep/3R9e)

D



[sofatutor.ch/ep/3R9f](https://www.sofatutor.ch/ep/3R9f)



Unsere Tipps für die Aufgaben

1
von 6

Wie spät ist es?

1. Tipp



Zwischen welchen beiden Zahlen steht der Minutenzeiger?



Lösungen und Lösungswege für die Aufgaben

1
von 6

Wie spät ist es?

Lösungsschlüssel: A, C

Es sind *zwei* Antworten richtig.

Es ist **halb 9**.

Und auch:

Es ist **20.30 Uhr**.

Du erkennst es daran, dass der Minutenzeiger unten auf der 6 und der Stundenzeiger zwischen der 8 und der 9 steht.