




Arbeitsblätter zum Ausdrucken von [sofatutor.com](https://www.sofatutor.com)

Uhrzeit – was ist eine Viertelstunde?



- 1 **Wie viele Minuten sind es?**
- 2 **Wo siehst du ein Viertel des Kuchens?**
- 3 **Wie spät ist es?**
- 4 **Wie spät ist es?**
- 5 **Wie spät ist es?**
- 6 **Es ist 10 Minuten nach 2 Uhr. Wie spät ist es in einer Viertelstunde?**
- + **mit vielen Tipps, Lösungsschlüsseln und Lösungswegen zu allen Aufgaben**





Das komplette Paket, **inkl. aller Aufgaben, Tipps, Lösungen und Lösungswege** gibt es für alle Abonnenten von [sofatutor.com](https://www.sofatutor.com)




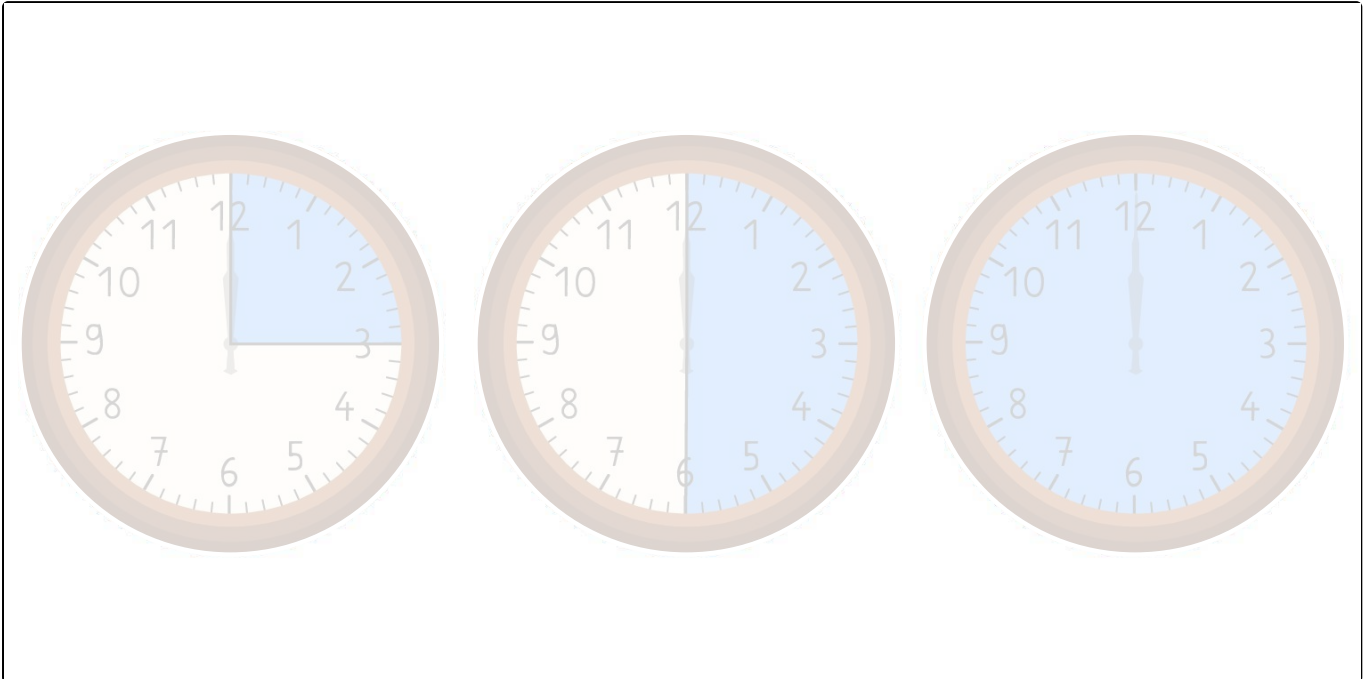
Wie viele Minuten sind es?

Markiere die Uhren mit den richtigen Farben. Benutze verschiedene Farben.

 15 Minuten

 30 Minuten

 60 Minuten





Unsere Tipps für die Aufgaben

1
von 6

Wie viele Minuten sind es?

1. Tipp

1 Stunde = 60 Minuten



Lösungen und Lösungswege für die Aufgaben

1
von 6

Wie viele Minuten sind es?



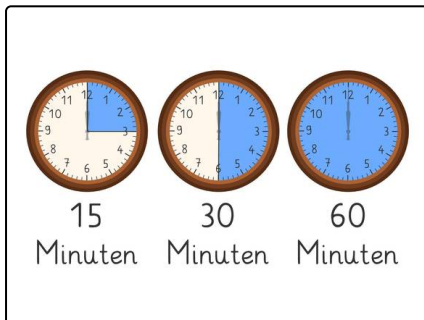

15 Minuten



30 Minuten



60 Minuten



Auf der ersten Uhr ist eine **Viertelstunde** markiert. Das sind **15** Minuten.

Auf der zweiten Uhr ist eine **halbe Stunde** markiert. Das sind **30** Minuten.

Auf der dritten Uhr ist **eine Stunde** markiert. Das sind **60** Minuten.