



Arbeitsblätter zum Ausdrucken von [sofatutor.com](https://www.sofatutor.com)

Uhrzeit – Was ist eine Dreiviertelstunde?



- 1 **Wie viele Minuten sind es?**
- 2 Welches Bild zeigt ein Dreiviertel einer Torte?
- 3 Wie spät ist es?
- 4 Welche Uhren zeigen die gleiche Uhrzeit?
- 5 Wie spät ist es?
- 6 Wie spät ist es nach einer Dreiviertelstunde?
- + mit vielen Tipps, Lösungsschlüsseln und Lösungswegen zu allen Aufgaben



Das komplette Paket, **inkl. aller Aufgaben, Tipps, Lösungen und Lösungswege** gibt es für alle Abonnenten von [sofatutor.com](https://www.sofatutor.com)



Wie viele Minuten sind es?

Ordne die Minuten den passenden Uhren zu.



A

[sofatutor.com/ep/3Qhn](https://www.sofatutor.com/ep/3Qhn)



B

[sofatutor.com/ep/3Qhp](https://www.sofatutor.com/ep/3Qhp)



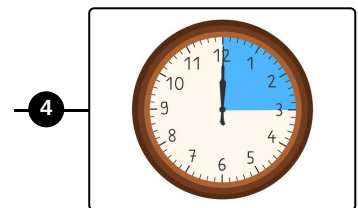
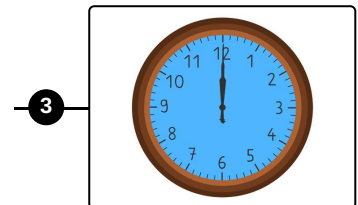
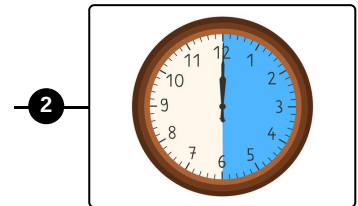
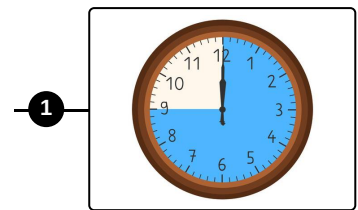
C

[sofatutor.com/ep/3Qhr](https://www.sofatutor.com/ep/3Qhr)



D

[sofatutor.com/ep/3Qht](https://www.sofatutor.com/ep/3Qht)



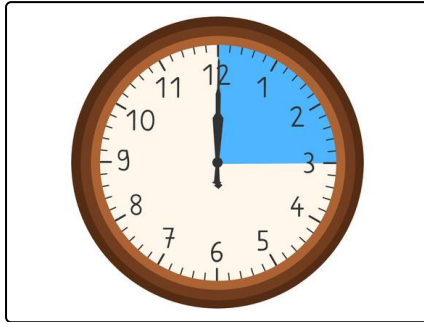


Unsere Tipps für die Aufgaben

1
von 6

Wie viele Minuten sind es?

1. Tipp



15 Minuten

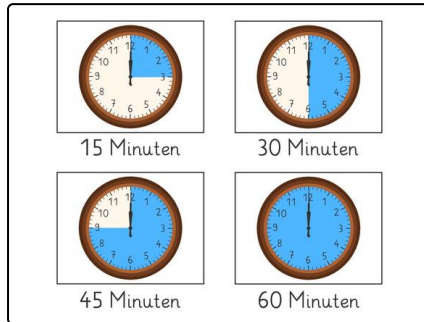


Lösungen und Lösungswege für die Aufgaben

1
von 6

Wie viele Minuten sind es?

Lösungsschlüssel: A—3 // B—1 // C—4 // D—2



Auf einer Uhr ist eine **Viertelstunde** markiert. Das sind 15 Minuten.

Auf einer anderen Uhr ist eine **halbe Stunde** markiert. Das sind 30 Minuten.

Auf noch einer anderen Uhr ist eine **Dreiviertelstunde** markiert. Das sind 45 Minuten.

Auf noch einer anderen Uhr ist eine **Stunde** markiert. Das sind 60 Minuten.