



Arbeitsblätter zum Ausdrucken von [sofatutor.com](https://www.sofatutor.com)

# Hunderter, Zehner und Einer



- 1 Welches Zahlenbild passt zur Zahl 236?
- 2 Wie viele Hunderter, Zehner und Einer hat die Zahl 145?
- 3 Wie sieht die Zahl als Zahlenbild aus?
- 4 Welche Zahl passt zur Beschreibung?
- 5 Welches Zahlenbild ist größer oder kleiner?
- 6 Wie kannst du die Zahl 526 auf verschiedene Arten darstellen?
- + mit vielen Tipps, Lösungsschlüsseln und Lösungswegen zu allen Aufgaben

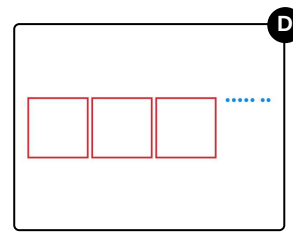
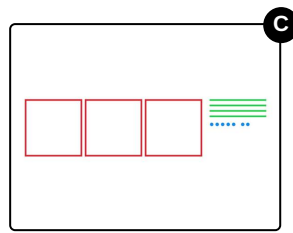
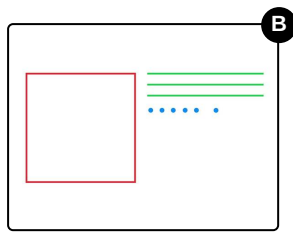
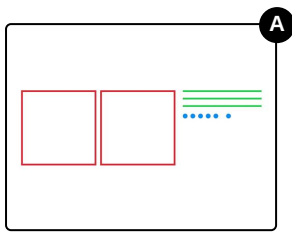


Das komplette Paket, inkl. aller Aufgaben, Tipps, Lösungen und Lösungswege gibt es für alle Abonnenten von [sofatutor.com](https://www.sofatutor.com)



## Welches Zahlenbild passt zur Zahl 236?

Wähle das richtige Zahlenbild aus.



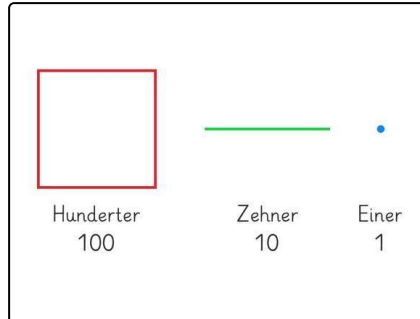


## Unsere Tipps für die Aufgaben

1  
von 6

### Welches Zahlenbild passt zur Zahl 236?

#### 1. Tipp



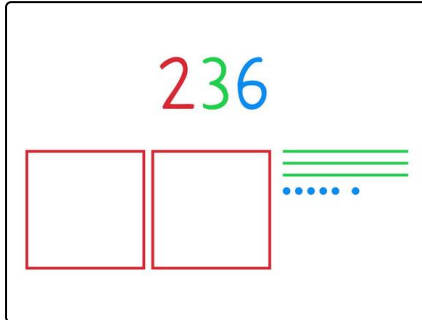


## Lösungen und Lösungswege für die Aufgaben

1  
von 6

### Welches Zahlenbild passt zur Zahl 236?

Lösungsschlüssel: A



2 Hunderter, 3 Zehner und 6 Einer ergeben die Zahl 236.