



Arbeitsblätter zum Ausdrucken von [sofatutor.com](https://www.sofatutor.com)

# Zahlenraum bis 100 – Einerwürfel, Zehnerstangen und Hunderterfeld



- 1 Welches Bild zeigt die Zahl 43?
- 2 Welche Zahl gehört zu welchem Bild?
- 3 Welche Zahlen fehlen im Hunderterfeld?
- 4 Welche Zahl passt zu welcher Darstellung?
- 5 Welche Zahlen fehlen in der Hundertertafel?
- 6 Wie lautet die richtige Reihenfolge der Zahlen?
- + mit vielen Tipps, Lösungsschlüsseln und Lösungswegen zu allen Aufgaben

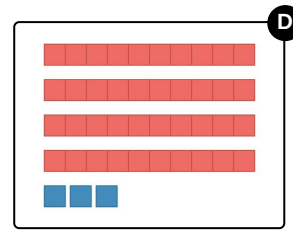
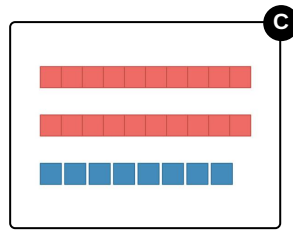
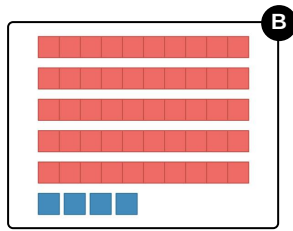
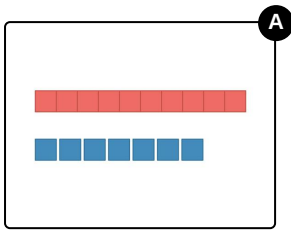


Das komplette Paket, inkl. aller Aufgaben, Tipps, Lösungen und Lösungswege gibt es für alle Abonnenten von [sofatutor.com](https://www.sofatutor.com)



## Welches Bild zeigt die Zahl 43?

Wähle die richtige Lösung aus.





## Unsere Tipps für die Aufgaben

1  
von 6

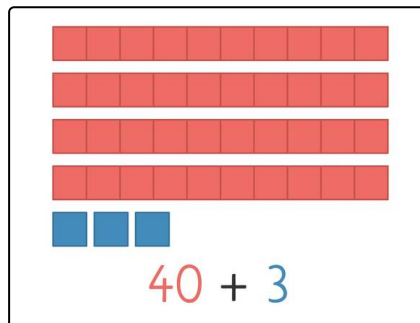
### Welches Bild zeigt die Zahl 43?

#### 1. Tipp



Wie viele Zehnerstangen und Einerwürfel hat die Zahl 43?

#### 2. Tipp



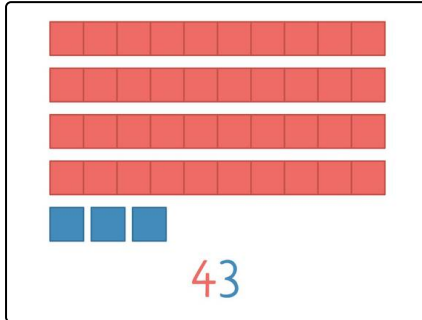


## Lösungen und Lösungswege für die Aufgaben

1  
von 6

### Welches Bild zeigt die Zahl 43?

Lösungsschlüssel: D



Die Zahl 43 hat 4 Zehnerstangen und 3 Einerwürfel.