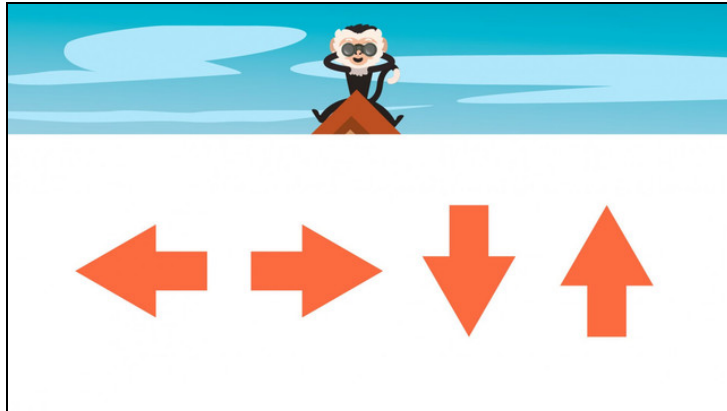




Arbeitsblätter zum Ausdrucken von [sofatutor.com](https://www.sofatutor.com)

Wo bist du? – Wege und Richtungen beschreiben



- 1 In welche Richtung muss Kappu zuerst, um zur Eisdiele zu kommen?
- 2 Welche Hand ist links?
- 3 Wie heißen die Richtungen?
- 4 Welche Bilder zeigen rechts, welche Bilder zeigen links?
- 5 Wie muss Kappu laufen, um zum Teich zu kommen?
- 6 In welche Richtungen muss Peggy gehen, um Kappu zu besuchen?
- + mit vielen Tipps, Lösungsschlüsseln und Lösungswegen zu allen Aufgaben

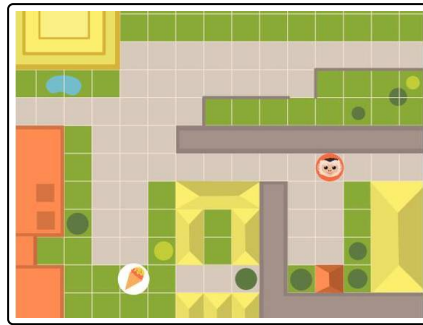


Das komplette Paket, inkl. aller Aufgaben, Tipps, Lösungen und Lösungswege gibt es für alle Abonnenten von [sofatutor.com](https://www.sofatutor.com)



In welche Richtung muss Kappu zuerst, um zur Eisdiele zu kommen?

Wähle die richtige Antwort aus.



nach unten **A**

nach rechts **B**

nach oben **C**

nach links **D**



Unsere Tipps für die Aufgaben

1
von 6

In welche Richtung muss Kappu zuerst, um zur Eisdiele zu kommen?

1. Tipp



Die Eisdiele erkennst du an der Eiswaffel.

2. Tipp



Erinnere dich an deine Daumen.

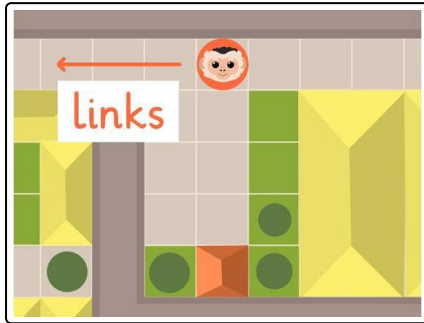


Lösungen und Lösungswege für die Aufgaben

1
von 6

In welche Richtung muss Kappu zuerst, um zur Eisdiele zu kommen?

Lösungsschlüssel: D



Kappu muss zuerst nach links abbiegen, um zur Eisdiele zu kommen.