



Arbeitsblätter zum Ausdrucken von [sofatutor.com](https://www.sofatutor.com)

Uhrzeit – Sekunden, Minuten, Stunden



- 1 **Wie lange dauert es, diese Dinge zu machen?**
- 2 **Wie heißen die Zeiger der Uhr?**
- 3 **Wie viele Sekunden hat 1 Minute?**
- 4 **Wie viele Sekunden sind auf der Uhr vergangen?**
- 5 **Wie viele Sekunden sind auf der Uhr vergangen?**
- 6 **Wie viele Sekunden haben 2 Minuten insgesamt?**
- + **mit vielen Tipps, Lösungsschlüsseln und Lösungswegen zu allen Aufgaben**

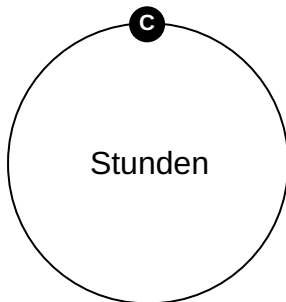
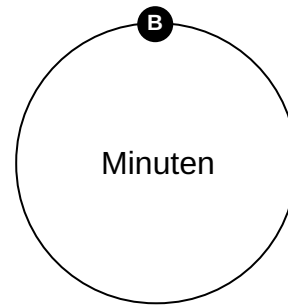
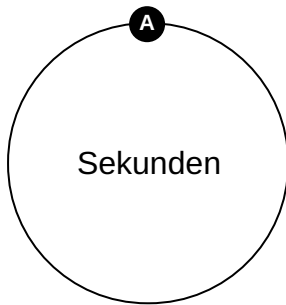



Das komplette Paket, **inkl. aller Aufgaben, Tipps, Lösungen und Lösungswege** gibt es für alle Abonnenten von [sofatutor.com](https://www.sofatutor.com)



Wie lange dauert es, diese Dinge zu machen?

Ordne die Bilder der passenden Dauer zu.





Unsere Tipps für die Aufgaben

1
von 6

Wie lange dauert es, diese Dinge zu machen?

1. Tipp




Überlege: Was dauert kurz, was dauert lang?
Sehr kurze Dinge dauern nur **Sekunden**.

2. Tipp



Wenn man etwas sehr lange macht, dauert es **Stunden**.

3. Tipp



Wie lange dauern **Hausaufgaben**?




Lösungen und Lösungswege für die Aufgaben

1
von 6

Wie lange dauert es, diese Dinge zu machen?

Lösungsschlüssel: A: 2, 6 // B: 4, 5 // C: 1, 3



So lange dauert es, diese Dinge zu machen:

Wenige Sekunden dauert es, eine Kerze auszupusten oder dir die Haare zu kämmen.

Ein paar Minuten dauert es, ein Lied zu singen oder dir die Zähne zu putzen.

Du kannst eine Stunde Hausaufgaben machen oder am Strand sein.