



Arbeitsblätter zum Ausdrucken von [sofatutor.com](https://www.sofatutor.com)

Malnehmen bis 50 (Plättchen)



- 1 Welches Bild passt zu der Aufgabe 3 mal 5?
- 2 Welche Malaufgabe passt zu dem Bild?
- 3 Welche Malaufgabe passt zu welchem Bild?
- 4 Welche Tauschaufgaben gehören zusammen?
- 5 Welche Malaufgabe passt zu welchem Bild?
- 6 Welche Malaufgabe passt zu welchem Ergebnis?
- + mit vielen Tipps, Lösungsschlüsseln und Lösungswegen zu allen Aufgaben

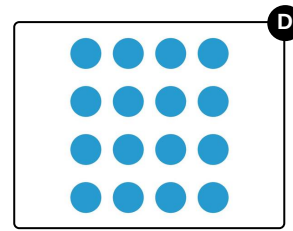
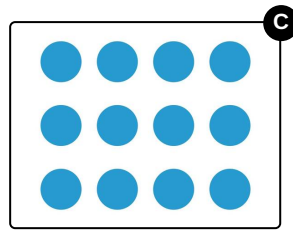
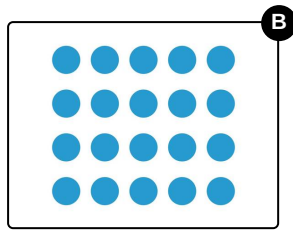
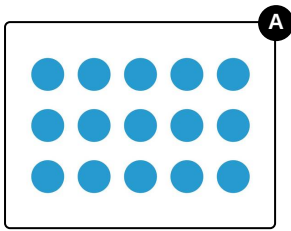


Das komplette Paket, inkl. aller Aufgaben, Tipps, Lösungen und Lösungswege gibt es für alle Abonnenten von [sofatutor.com](https://www.sofatutor.com)



Welches Bild passt zu der Aufgabe 3 mal 5?

Wähle das richtige Bild aus.






Unsere Tipps für die Aufgaben

1
von 6

Welches Bild passt zu der Aufgabe 3 mal 5?

1. Tipp



Zu diesem Bild gehört die Aufgabe $4 \cdot 6$.

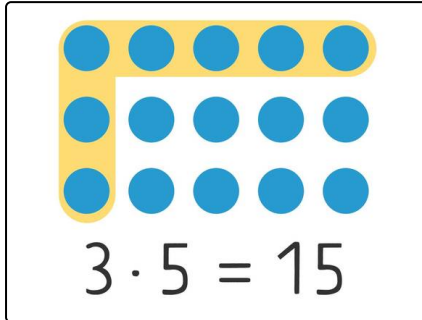


Lösungen und Lösungswege für die Aufgaben

1
von 6

Welches Bild passt zu der Aufgabe 3 mal 5?

Lösungsschlüssel: A



Wie viele Reihen sind es?

Wie viele Plättchen sind in jeder Reihe?

Hier siehst du **3 Reihen** mit jeweils **5 Plättchen**.

Dazu gehört die Aufgabe **3 · 5**.