



Arbeitsblätter zum Ausdrucken von [sofatutor.com](https://www.sofatutor.com)

## Gewichte – Kommaschreibweise



- 1 Welche Einheiten gehören hinter die Zahlen auf den Bildern?
- 2 Wie wird ein Gewicht von 1,5 kg in die Stellentafel eingetragen?
- 3 Welche Gewichtsangaben gehören zusammen?
- 4 Welche Gewichte sind am schwersten? Ordne.
- 5 Welche Gewichte sind in der Stellentafel angegeben? Ordne zu.
- 6 Wie schwer ist der Kuchen? Berechne.
- + mit vielen Tipps, Lösungsschlüsseln und Lösungswegen zu allen Aufgaben

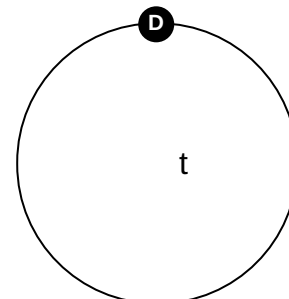
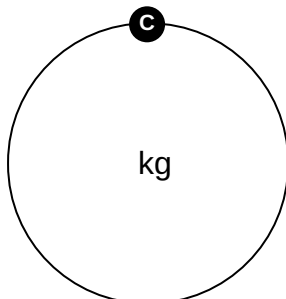
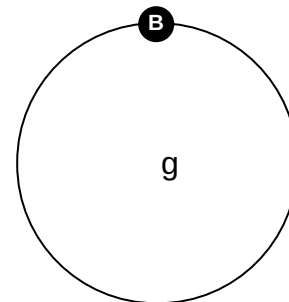
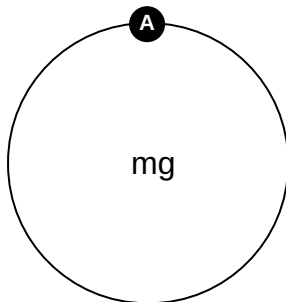



Das komplette Paket, **inkl. aller Aufgaben, Tipps, Lösungen und Lösungswege** gibt es für alle Abonnenten von [sofatutor.com](https://www.sofatutor.com)



## Welche Einheiten gehören hinter die Zahlen auf den Bildern?

Ordne jeweils der passenden Gewichtseinheit zu.





## Unsere Tipps für die Aufgaben

1  
von 6

### Welche Einheiten gehören hinter die Zahlen auf den Bildern?

#### 1. Tipp

Leichte Sachen werden in Milligramm oder Gramm angegeben, schwere Sachen in Kilogramm oder Tonnen.

---

#### 2. Tipp

$1 \text{ t} = 1\,000 \text{ kg}$   $1 \text{ kg} = 1\,000 \text{ g}$   $1 \text{ g} = 1\,000 \text{ mg}$

---



## Lösungen und Lösungswege für die Aufgaben

1  
von 6

### Welche Einheiten gehören hinter die Zahlen auf den Bildern?

**Lösungsschlüssel:** A: 3 // B: 4 // C: 1 // D: 2

Marienkäfer: 5 **mg**

Butter: 250 **g**

Kind: 40,6 **kg**

Auto: 1,3 **t**