



Arbeitsblätter zum Ausdrucken von [sofatutor.com](https://www.sofatutor.com)

Entwicklungsländer



- 1 **Skizziere die Entwicklungsländer auf der Weltkarte.**
- 2 Definiere den Begriff Entwicklungsland.
- 3 Benenne die Merkmale von Entwicklungsländern.
- 4 Beschreibe Maßnahmen zur Entwicklungspolitik.
- 5 Charakterisiere den Teufelskreis der Unterentwicklung.
- 6 Erkläre die Ursachen der Armut in der Sahelzone.
- + mit vielen Tipps, Lösungsschlüsseln und Lösungswegen zu allen Aufgaben



Das komplette Paket, **inkl. aller Aufgaben, Tipps, Lösungen und Lösungswege** gibt es für alle Abonnenten von [sofatutor.com](https://www.sofatutor.com)



Skizziere die Entwicklungsländer auf der Weltkarte.

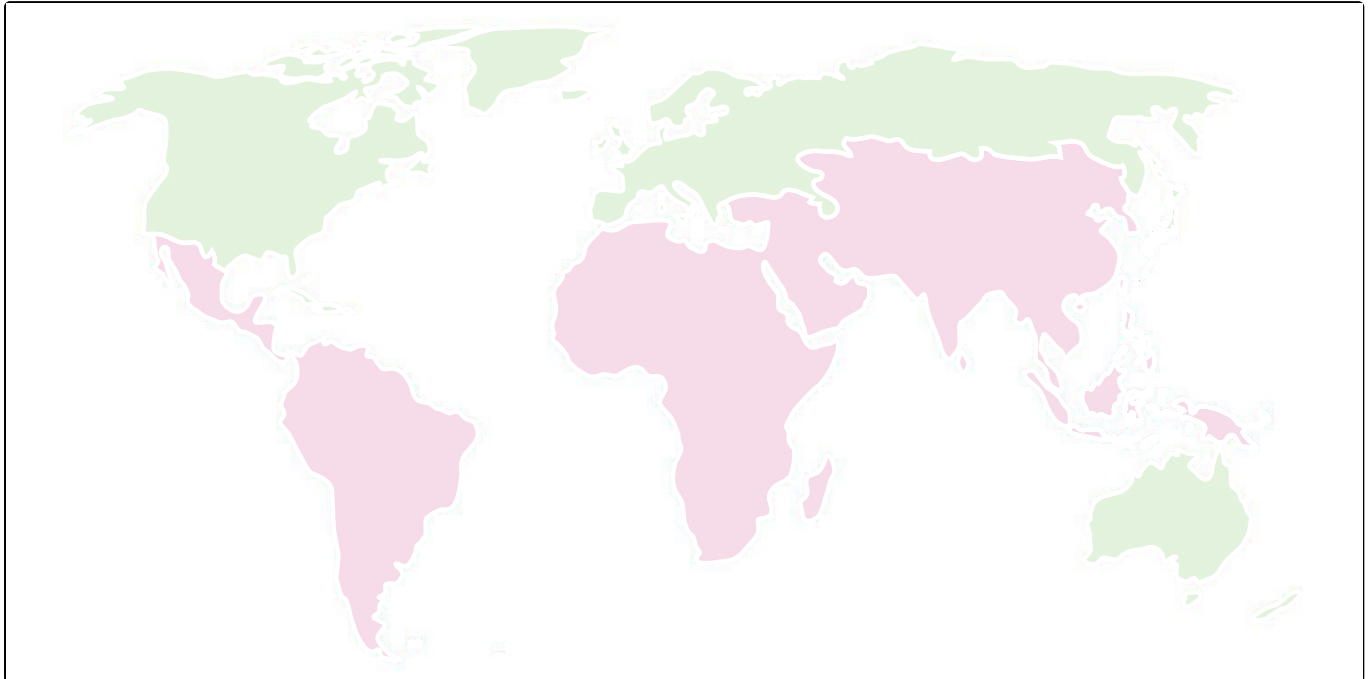
Markiere die Länder mit entsprechender Farbe. Benutze verschiedene Farben.



Industrieland



Entwicklungsland



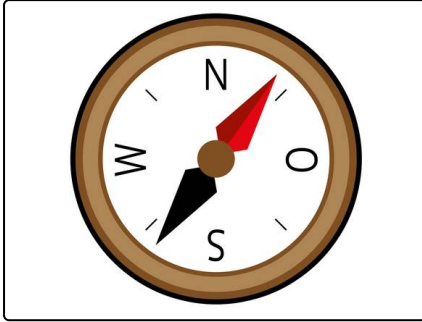


Unsere Tipps für die Aufgaben

1
von 6

Skizziere die Entwicklungsländer auf der Weltkarte.

1. Tipp



Viele der Entwicklungsländer liegen im **globalen Süden** der Erde.



Lösungen und Lösungswege für die Aufgaben

1
von 6

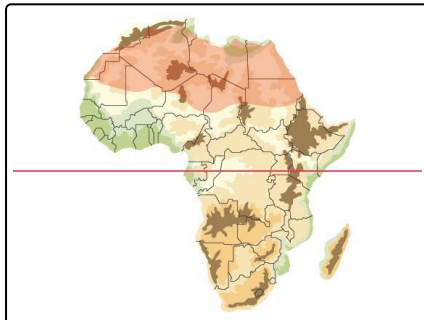
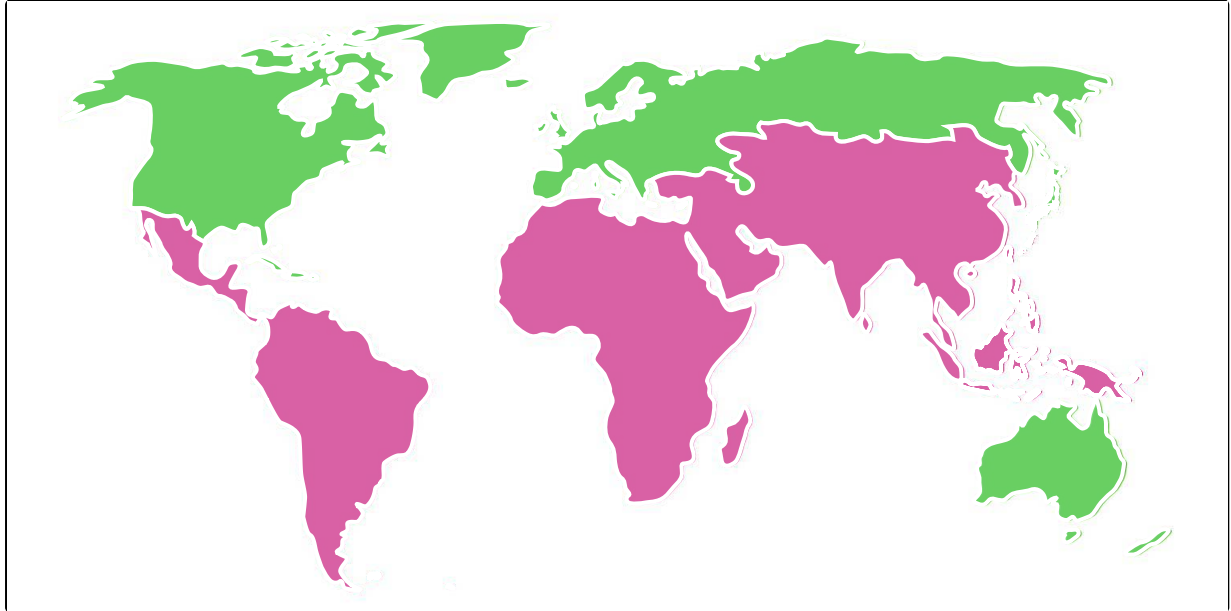
Skizziere die Entwicklungsländer auf der Weltkarte.



Industrieland



Entwicklungsland



Die Weltkarte zeigt eindeutig, dass sich auf der Südhalbkugel deutlich **mehr Entwicklungsländer** befinden als im Norden. Dafür gibt es zahlreiche **Erklärungsansätze**:

- Einer der Hauptgründe liegt in der **Zeit der Kolonialisierung**.
 - Mit der Entdeckung Amerikas durch Kolumbus begann die systematische **Ausbeutung** der **neuen Welt** für die Königshäuser in Europa.
 - **Rohstoffe** wurden ausgebeutet und **Menschen** wurden versklavt.
- Diese Kolonialisierung und der Kampf europäischer Staaten um die **Vorherrschaft auf der Welt** dauerte viele Jahrhunderte.
 - Heute leben viele Menschen in den ehemaligen Kolonien in **Armut**.

Doch auch **klimatische Faktoren** spielen eine Rolle:

- Während die Staaten im Norden sich größtenteils über die **gemäßigte Klimazone** verteilen, befinden sich große Teile Afrikas beispielsweise in Wüsten- und Savannengebieten, also **Trockenzonen**.
- Dort ist **kaum ertragreicher Anbau** möglich.