



Arbeitsblätter zum Ausdrucken von [sofatutor.com](https://www.sofatutor.com)

Bedeutung von Wasser – es war einmal unsere Erde (Folge 10)



- 1 **Bestimme, welche Wasserarten als Trinkwasser zur Verfügung stehen.**
- 2 Gib die korrekten Aussagen zum Thema Wasser wieder.
- 3 Vergleiche die Vor- und Nachteile von Staudämmen.
- 4 Zeige die Orte auf der Weltkarte, die besonders von Wasserknappheit betroffen sind.
- 5 Gliedere die Ereignisse, die zum Austrocknen des Aralsees geführt haben.
- 6 Ordne die Lösungsansätze zur Verbesserung der Wasserproblematik den jeweiligen Ursachen zu.
- + mit vielen Tipps, Lösungsschlüsseln und Lösungswegen zu allen Aufgaben



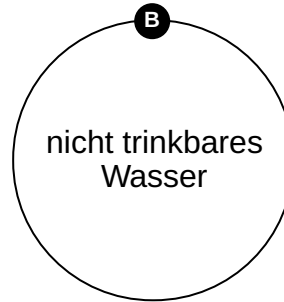
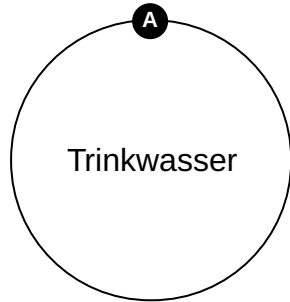
Das komplette Paket, **inkl. aller Aufgaben, Tipps, Lösungen und Lösungswege** gibt es für alle Abonnenten von [sofatutor.com](https://www.sofatutor.com)



Bestimme, welche Wasserarten als Trinkwasser zur Verfügung stehen.

Ordne die Elemente entsprechend zu.

Meerwasser 1	Regenwasser 2	Flüsse 3	Gletscher 4
Grundwasser 5	Seen 6	Polareis 7	





Unsere Tipps für die Aufgaben

1
von 6

Bestimme, welche Wasserarten als Trinkwasser zur Verfügung stehen.

1. Tipp

Flüsse und Seen sind **Süßwasserquellen** und daher als **Trinkwasser** nutzbar.

2. Tipp

Gefrorenes Wasser gilt als **nicht trinkbares** Wasser, auch wenn gefrorenes Wasser eigentlich Süßwasser ist.




Lösungen und Lösungswege für die Aufgaben

1
von 6

Bestimme, welche Wasserarten als Trinkwasser zur Verfügung stehen.

Lösungsschlüssel: A: 2, 3, 5, 6 // B: 1, 4, 7



- Es gibt verschiedene **Wasserarten**, die im Prinzip als **Trinkwasser** bzw. Süßwasser zur Verfügung stehen.
- Dazu gehört das Wasser aus **Seen, Flüssen, Regen** und dem **Boden**.
- Alle diese Wasserarten machen jedoch nur einen **sehr kleinen** Teil des **global verfügbaren Wassers** aus, nämlich nur **0,3 %**.