



Arbeitsblätter zum Ausdrucken von [sofatutor.com](https://www.sofatutor.com)

Willi in Istanbul - auf dem Bazar



- 1 **Wo befinden sich die Türkei, Deutschland, Österreich und die Schweiz? Bestimme.**
- 2 Was weißt du über den Bazar? Gib an.
- 3 Wie entstand diese Stadt? Beschreibe.
- 4 Welche Sehenswürdigkeiten stehen in Istanbul? Entscheide.
- 5 Wie rechnest du türkische Lira in Euro um und andersherum? Zeige.
- 6 Welche Informationen über die Türkei sind richtig? Erkläre.
- + mit vielen Tipps, Lösungsschlüsseln und Lösungswegen zu allen Aufgaben







Das komplette Paket, **inkl. aller Aufgaben, Tipps, Lösungen und Lösungswege** gibt es für alle Abonnenten von [sofatutor.com](https://www.sofatutor.com)



Wo befinden sich die Türkei, Deutschland, Österreich und die Schweiz? Bestimme.

Markiere die Länder. Benutze verschiedene Farben.

 Deutschland  Schweiz  Österreich  Türkei





Unsere Tipps für die Aufgaben

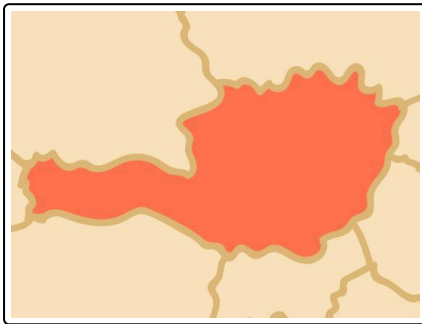
1
von 6

Wo befinden sich die Türkei, Deutschland, Österreich und die Schweiz? Bestimme.

1. Tipp

Nimm dir eine beschriftete Europakarte zu Hand.

2. Tipp



Das ist Österreich.

3. Tipp



Da liegt Istanbul.



Lösungen und Lösungswege für die Aufgaben

1
von 6

Wo befinden sich die Türkei, Deutschland, Österreich und die Schweiz? Bestimme.



Deutschland



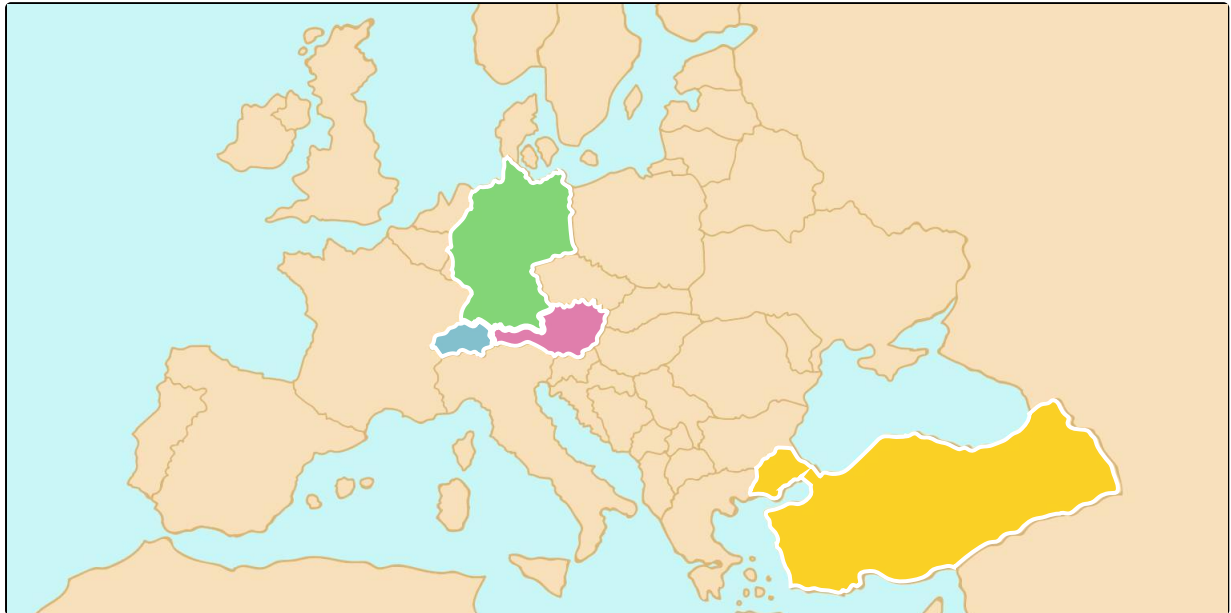
Schweiz



Österreich



Türkei



Wenn du Europa gut kennst, hast du dir bestimmt gemerkt, wo Deutschland, Österreich, die Schweiz und die Türkei liegen. An den Formen der vier Länder kannst du sie gut erkennen.

Stell dir vor, von Berlin aus sind es ungefähr 2200 km bis nach Istanbul. Dazu bräuchtest du ungefähr 24 Stunden mit dem Auto.