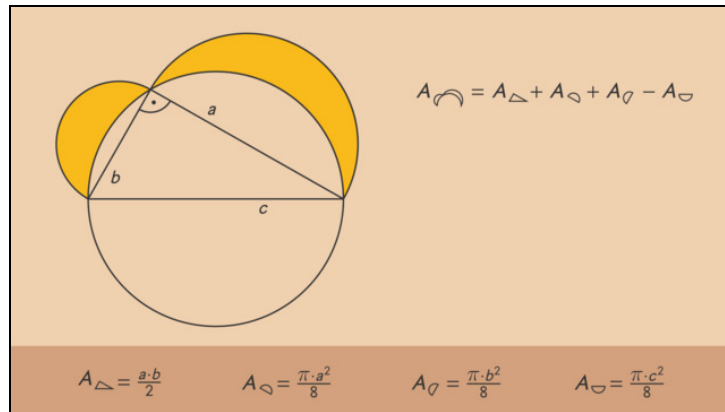




Arbeitsblatter zum Ausdrucken von sofatutor.com

Mondchen des Hippokrates



- 1 **Bestimme den Flacheninhalt.**
- 2 Bestimme den Flacheninhalt.
- 3 Gib die Satze zur Flachenberechnung wieder.
- 4 Analysiere den Beweis.
- 5 Erschliee den Flacheninhalt.
- 6 Bestimme den Flacheninhalt eines Mondchens.
- + mit vielen Tipps, Losungsschlesseln und Losungswegen zu allen Aufgaben



Das komplette Paket, inkl. aller Aufgaben, Tipps, Losungen und Losungswege gibt es fur alle Abonnenten von sofatutor.com

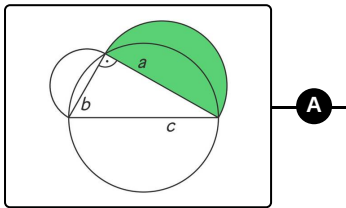


Bestimme den Flächeninhalt.

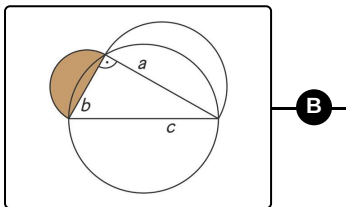
Verbinde die Flächen mit den Formeln für den Flächeninhalt.

Der Schmied Callistos hat ausgerechnet, wie viel Material er benötigt, um die Mönchchen des Hippokrates zu schmieden. Bei einem kräftigen Stoß mit dem Blasebalg sind in der Schmiede alle Rechnungen durcheinander geraten.

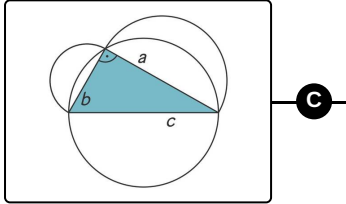
Kannst Du Callistos helfen, den farbig markierten Flächen wieder die richtigen Formeln für den Flächeninhalt zuzuordnen?



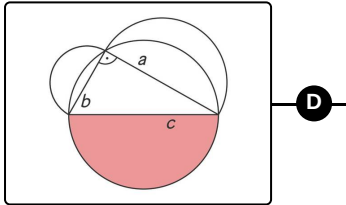
A



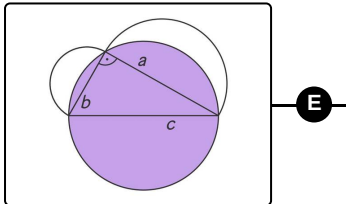
B



C



D



E

1 $\frac{\pi \cdot b^2}{8}$

2 $\frac{\pi \cdot c^2}{4}$

3 $\frac{\pi \cdot a^2}{8}$

4 $\frac{\pi \cdot c^2}{2}$

5 $\frac{\pi \cdot c^2}{8}$

6 $\frac{a \cdot b}{2}$



Unsere Tipps für die Aufgaben

1
von 6

Bestimme den Flächeninhalt.

1. Tipp

Ein rechtwinkliges Dreieck entsteht durch Teilung eines Rechtecks längs der Diagonalen.

2. Tipp

In der Formel für den Flächeninhalt eines Kreises mit Radius r kommt der Radius quadratisch vor.

3. Tipp

Der Flächeninhalt eines Halbkreises ist halb so groß wie der Flächeninhalt des gesamten Kreises.

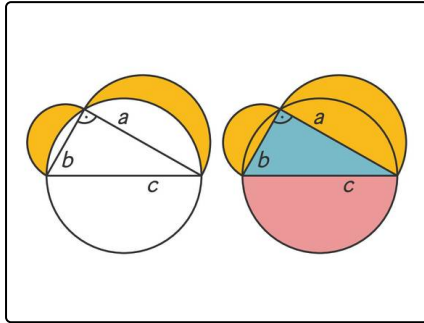


Losungen und Losungswege fur die Aufgaben

1
von 6

Bestimme den Flacheninhalt.

Losungsschlussel: A—3 // B—1 // C—6 // D—5 // E—2



Der Flacheninhalt eines Kreises mit Radius r betragt πr^2 . Der Flacheninhalt eines Halbkreises ist halb so gro.

Fur den Flacheninhalt eines Dreiecks gilt die Formel

$\frac{\text{Grundseite mal Hohe}}{2}$. Bei einem rechtwinkligen Dreieck mit Katheten a und b ist b die Hohe uber der Seite a . Der Flacheninhalt betragt daher $\frac{a \cdot b}{2}$.

Aus diesen uberlegungen erhalten wir folgende Flacheninhalte:

- Der Flacheninhalt des Halbkreises uber der Seite a betragt $\frac{1}{2} \cdot \pi \cdot \left(\frac{a}{2}\right)^2 = \frac{\pi \cdot a^2}{8}$.
- Der Flacheninhalt des Halbkreises uber der Kathete b betragt analog dazu $\frac{\pi \cdot b^2}{8}$.
- Fur das rechtwinklige Dreieck mit Katheten a und b finden wir den Flacheninhalt $\frac{a \cdot b}{2}$.
- Der Halbkreis uber der Hypotenuse c hat den Flacheninhalt $\frac{\pi \cdot c^2}{8}$.
- Der Kreis uber der Hypotenuse c hat schlielich den Flacheninhalt $\pi \cdot \left(\frac{c}{2}\right)^2 = \frac{\pi \cdot c^2}{4}$.