




Arbeitsblätter zum Ausdrucken von [sofatutor.com](https://www.sofatutor.com)

# Die Zahl 3



- 1 **Wie viele Sachen kannst du jeweils sehen?**
- 2 **Wo kannst du eine 3 sehen?**
- 3 **Wie schreibt man die Zahl 3?**
- 4 **Wie erhältst du 3 Äpfel?**
- 5 **Wie viele Autos kannst du zählen?**
- 6 **Wie viele 3er-Gruppen gibt es?**
- + **mit vielen Tipps, Lösungsschlüsseln und Lösungswegen zu allen Aufgaben**



Das komplette Paket, **inkl. aller Aufgaben, Tipps, Lösungen und Lösungswege** gibt es für alle Abonnenten von [sofatutor.com](https://www.sofatutor.com)



## Wie viele Sachen kannst du jeweils sehen?

Verbinde die Sachen mit der passenden Anzahl.



A

[sofatutor.com/ep/36qM](https://www.sofatutor.com/ep/36qM)



B

[sofatutor.com/ep/36qP](https://www.sofatutor.com/ep/36qP)




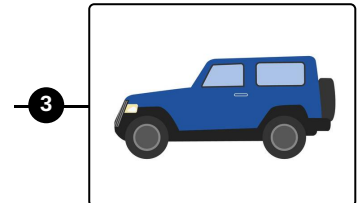

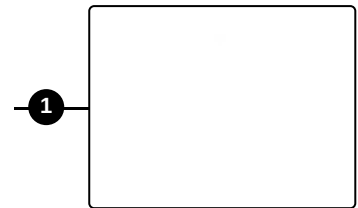
C

[sofatutor.com/ep/36qR](https://www.sofatutor.com/ep/36qR)



D

[sofatutor.com/ep/36qT](https://www.sofatutor.com/ep/36qT)





## Unsere Tipps für die Aufgaben

1  
von 6

### Wie viele Sachen kannst du jeweils sehen?

#### 1. Tipp

Zähle die Sachen auf den Bildern genau ab.

---

#### 2. Tipp



Hier siehst du 2 Nüsse.

---



## Lösungen und Lösungswege für die Aufgaben

1  
von 6

### Wie viele Sachen kannst du jeweils sehen?

**Lösungsschlüssel:** A—4 // B—3 // C—2 // D—1

Um die Bilder richtig zuzuordnen, musst du die Sachen erst einmal **genau zählen**. Von den *Murmeln* kannst du 3 zählen. Außerdem gibt es 2 *Teddys* und 1 *Spielzeugauto*. Auf einem der Bilder kannst du gar keine Sache sehen.