




Arbeitsblätter zum Ausdrucken von [sofatutor.com](https://www.sofatutor.com)

Die Zahl 2



- 1 **Was weißt du alles über die Zahl 2?**
- 2 Welche Bilder passen zu der Zahl 2?
- 3 Welche Bilder haben etwas mit der Zahl 2 zu tun?
- 4 Wo haben sich die Zweien versteckt?
- + mit vielen Tipps, Lösungsschlüsseln und Lösungswegen zu allen Aufgaben




Das komplette Paket, **inkl. aller Aufgaben, Tipps, Lösungen und Lösungswege** gibt es für alle Abonnenten von [sofatutor.com](https://www.sofatutor.com)




Was weißt du alles über die Zahl 2?

Wähle die richtigen Antworten aus.



Nico und Lilly halten heute in ihrer Klasse einen Vortrag über die 2. Dazu sammeln sie viele Informationen über die Zahl 2.

Kannst du den beiden Freunden helfen?






Unsere Tipps für die Aufgaben

1
von 4

Was weißt du alles über die Zahl 2?

1. Tipp



Schau dir das Mädchen auf dem Bild an.
Sie hat 2 Augen, aber nur 1 Mund.

2. Tipp



Die Zahl 1 ist kleiner als die Zahl 2.




Lösungen und Lösungswege für die Aufgaben

1
von 4

Was weißt du alles über die Zahl 2?

Lösungsschlüssel: A, C



Nico und Lilly überlegen sich, wo sie die Zahl 2 überall finden können.

Sie stellen fest, dass sie 2 Augen haben. Die Zahl 2 steht für alles, das es zweimal gibt. Aber nicht alle Körperteile haben sie doppelt. Nico hat zum Beispiel nur 1 Mund.

Die Zahl 1 ist die kleinste Zahl. Danach kommt beim Zählen die 2. Also ist die Zahl 2 die zweitkleinste Zahl.