



Arbeitsblätter zum Ausdrucken von [sofatutor.com](https://www.sofatutor.com)

Das Zwanzigerfeld – Nachbarzahlen



- 1 Was weißt du alles über Nachbarzahlen?
- 2 Welche Nachbarzahlen hat die Zahl 18?
- 3 Welche Nachbarzahlen hat die 15?
- 4 Welche Nachbarzahlen gehören zu den Zahlenfeldern?
- 5 Welche Nachbarzahl fehlt hier?
- 6 Welche Nachbarzahlen sind gesucht?
- + mit vielen Tipps, Lösungsschlüsseln und Lösungswegen zu allen Aufgaben




Das komplette Paket, **inkl. aller Aufgaben, Tipps, Lösungen und Lösungswege** gibt es für alle Abonnenten von [sofatutor.com](https://www.sofatutor.com)



Was weißt du alles über Nachbarzahlen?

Wähle die richtigen Antworten aus.



Lilly und Nico machen bei einem Mathe-Quiz mit.

Heute geht es um Nachbarzahlen. Sie sollen die richtigen Antworten finden.

Kannst du ihnen dabei helfen?



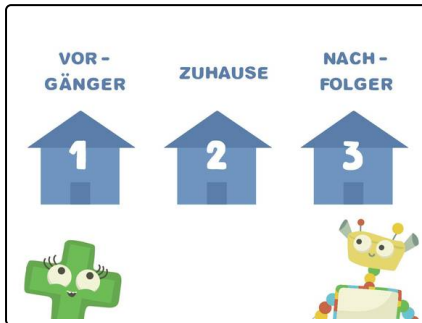


Unsere Tipps für die Aufgaben

1
von 6

Was weißt du alles über Nachbarzahlen?

1. Tipp



Hier siehst du die Zahl 2 mit ihren Nachbarzahlen.

2. Tipp



Die 1 ist der Vorgänger der Zahl 2. Sie steht links neben der 2.
Die 3 ist der Nachfolger der Zahl 2. Sie steht rechts neben der 2.




Lösungen und Lösungswege für die Aufgaben

1
von 6

Was weißt du alles über Nachbarzahlen?

Lösungsschlüssel: A, C



Nico und Lilly haben alle richtigen Antworten gefunden. Sie haben das Mathe-Quiz gewonnen!

Die beiden Freunde sind richtig stolz.

Sie wissen, dass jede Zahl, die größer als 0 ist, zwei Nachbarzahlen hat.

Genauso ist das auch in der Straße, in der Lilly wohnt. Sie wohnt in dem Haus mit der Nummer 2. Links neben Lillys Zuhause steht das Haus mit der Nummer 1. **Die 1 ist der Vorgänger der Zahl 2.**

Rechts neben Lillys Zuhause steht das Haus mit der Nummer 3. **Die 3 ist der Nachfolger der Zahl 2.**

So kann sich Lilly gut merken, was es mit den Nachbarzahlen auf sich hat. Sie erklärt ihren Trick gleich Nico.