




Arbeitsblätter zum Ausdrucken von [sofatutor.com](https://www.sofatutor.com)

Zehner und Einer



- 1 Welche Zahl ist das?
- 2 Wie viele Eier kannst du zählen?
- 3 Was bedeuten die Striche und Punkte?
- 4 Wie werden die Zahlen angeordnet?
- 5 Wie viele Bonbons kannst du zählen?
- 6 Wie viele Eier sind zu sehen?
- + mit vielen Tipps, Lösungsschlüsseln und Lösungswegen zu allen Aufgaben




Das komplette Paket, inkl. aller Aufgaben, Tipps, Lösungen und Lösungswege gibt es für alle Abonnenten von [sofatutor.com](https://www.sofatutor.com)



Welche Zahl ist das?





Wähle die richtige Zahl aus.



Striche stehen für die **Zehner** und Punkte für die **Einer**.

Niko hat zwei Striche gemalt aber keine Punkte.

Kannst du Lilly helfen? Welche Zahl ist es?





Unsere Tipps für die Aufgaben

1
von 6

Welche Zahl ist das?

1. Tipp

Für einen Karton mit 10 Eiern gibt es einen Strich.

2. Tipp

2 Striche sind 2 Kartons mit 10 Eiern.

3. Tipp

Schreibe erst die Zehner und dann die Einer auf.

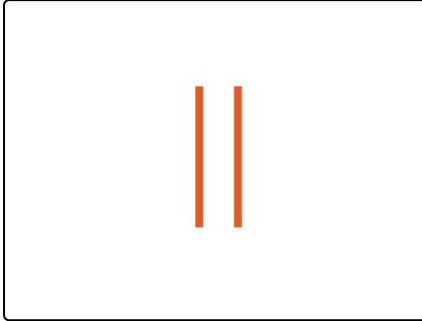


Lösungen und Lösungswege für die Aufgaben

1
von 6

Welche Zahl ist das?

Lösungsschlüssel: D



Niko hat zwei Striche und keinen Punkt gezeichnet.

Lilly weiß schon was: Ein Strich steht für einen Karton mit 10 Eiern.

Sie legt zwei Kartons vor sich hin:

10 Eier + 10 Eier sind 20 Eier.

Schreibe zuerst die Zehner und dann die Einer auf:

Die gesuchte Zahl ist die 20.