



Arbeitsblätter zum Ausdrucken von [sofatutor.com](https://www.sofatutor.com)

Wie ist die Zeit aufgeteilt?



- 1 **Weißt du, wie die Monate eines Jahres und die Tage einer Woche heißen? Bestimme die Tage und die Monate.**
- 2 **Weißt du, wie viele Monate ein Jahr hat? Gib die jeweilige Anzahl an.**
- 3 **Wie viele Minuten sind eine Stunde und wie viele Sekunden sind eine Minute? Gib die jeweilige Anzahl an.**
- 4 **Wie viele Tage haben 3 Wochen? Berechne die Anzahl der Tage.**
- 5 **Wie viele Stunden verbringt Lilly mit Schule und mit Lernen? Berechne die Anzahl der Stunden.**
- 6 **Weißt du, wie du gemischte Zeitangaben in Minuten umrechnen kannst? Berechne die Zeit in Minuten.**
- + **mit vielen Tipps, Lösungsschlüsseln und Lösungswegen zu allen Aufgaben**



Das komplette Paket, **inkl. aller Aufgaben, Tipps, Lösungen und Lösungswege** gibt es für alle Abonnenten von [sofatutor.com](https://www.sofatutor.com)



Weißt du, wie die Monate eines Jahres und die Tage einer Woche heißen? Bestimme die Tage und die Monate.

Ordne die Elemente zu „Monat“ oder „Tag“.



1 Jahr ist in 12 Monate unterteilt.

1 Monat ist in 4 Wochen unterteilt.

1 Woche ist in 7 Tage unterteilt.

Hier siehst du ein Kalenderblatt für den Monat Oktober. Hast du zu Hause einen Kalender? Schau doch mal darauf: Was steht da alles?

Montag ¹

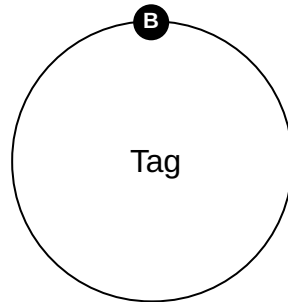
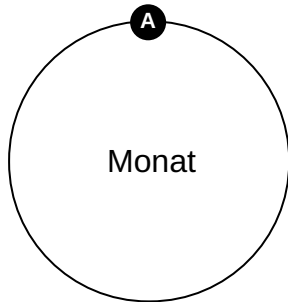
Donnerstag ²

Mittwoch ³

November ⁴

März ⁵

Juni ⁶





Unsere Tipps für die Aufgaben

1
von 6

Weißt du, wie die Monate eines Jahres und die Tage einer Woche heißen? Bestimme die Tage und die Monate.

1. Tipp

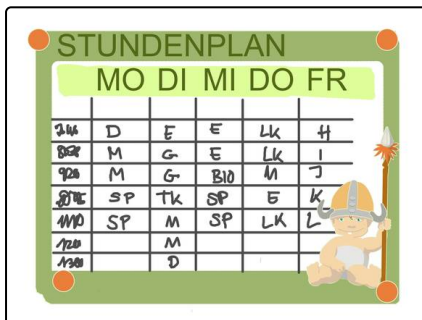


Die Wochentage enden fast alle auf „tag“, bis auf einen Tag.

2. Tipp

Wann hast denn du Geburtstag? In welchem Monat? Vielleicht ist dieser Monat ja dabei.

3. Tipp



Weißt du wofür „MO“, „DI“, „MI“, „DO“ und „FR“ stehen?

„FR“ steht zum Beispiel für Freitag.



Lösungen und Lösungswege für die Aufgaben

1
von 6

Weißt du, wie die Monate eines Jahres und die Tage einer Woche heißen? Bestimme die Tage und die Monate.

Lösungsschlüssel: A: 4, 5, 6 // B: 1, 2, 3

APRIL						
MO	DI	MI	DO	FR	SA	SO
		1	2	3	4	
5	6	7	8	9	10	11
12	13	14	15	16	17	18
19	20	21	22	23	24	25
26	27	28	29	30		

Hier steht ganz oben „April“. Das ist ein Monat.

Darunter stehen die Wochentage. Jede Woche besteht aus **7 Tagen**:

Montag - Dienstag - Mittwoch - Donnerstag - Freitag - Samstag - Sonntag.

Fast jeder Wochentag endet auf „-tag“, bis auf Mittwoch. Dieser Wochentag liegt genau in der Mitte der Woche.

Der April ist nicht der einzige Monat im Jahr. Es gibt insgesamt **12 Monate**:

Januar - Februar - März - April - Mai - Juni - Juli - August - September - Oktober - November - Dezember.