




Arbeitsblätter zum Ausdrucken von [sofatutor.com](https://www.sofatutor.com)

Die Kugel



- 1 Welche Gegenstände sind Kugeln? Ordne sie zu.
 - 2 Welche Gegenstände haben die Form einer Kugel? Entscheide.
 - 3 Welche Eigenschaften hat eine Kugel? Nenne sie.
 - 4 Was bedeutet Durchmesser und Umfang? Definiere die beiden Begriffe.
 - 5 Wie groß ist der Durchmesser des Apfels? Bestimme ihn.
 - 6 Wie groß ist der Umfang der Gegenstände? Gib an.
- + mit vielen Tipps, Lösungsschlüsseln und Lösungswegen zu allen Aufgaben

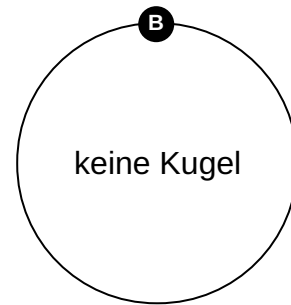
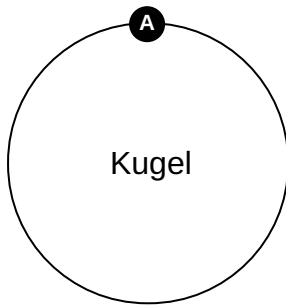
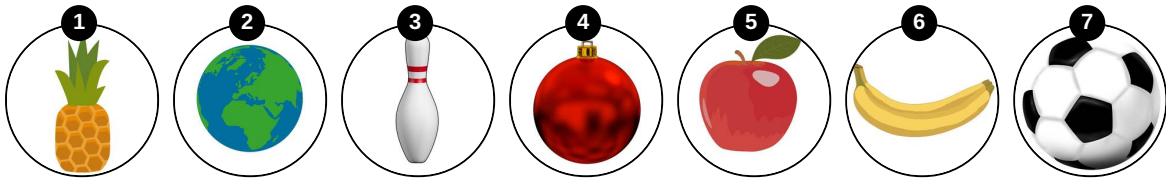


Das komplette Paket, inkl. aller Aufgaben, Tipps, Lösungen und Lösungswege gibt es für alle Abonnenten von [sofatutor.com](https://www.sofatutor.com)



Welche Gegenstände sind Kugeln? Ordne sie zu.

Ordne die Bilder zum richtigen Feld.





Unsere Tipps für die Aufgaben

1
von 6

Welche Gegenstände sind Kugeln? Ordne sie zu.

1. Tipp

Kugeln sind rund.

2. Tipp

Kugeln haben keine Ecken und Kanten.



Lösungen und Lösungswege für die Aufgaben

1
von 6

Welche Gegenstände sind Kugeln? Ordne sie zu.

Lösungsschlüssel: A: 2, 4, 5, 7 // B: 1, 3, 6

Die Kugel:

- ist ein Körper.
- ist rund und hat keine Ecken oder Kanten.
- hat nur eine Oberfläche.
- hat keine flachen Flächen.

Hier hast du einige Beispiele für Kugeln gesehen. Die **Erdkugel**, der **Fußball**, die **Christbaumkugel** und der **Apfel** haben die Form einer Kugel.

Der Kegel hat eine gerade Fläche am Boden und ist deswegen keine Kugel. Die Banane hat oben und unten eine Ecke und ist deswegen auch keine Kugel. Auch die Ananas ist keine Kugel. Sie hat ebenfalls wie der Kegel unten eine gerade Fläche.