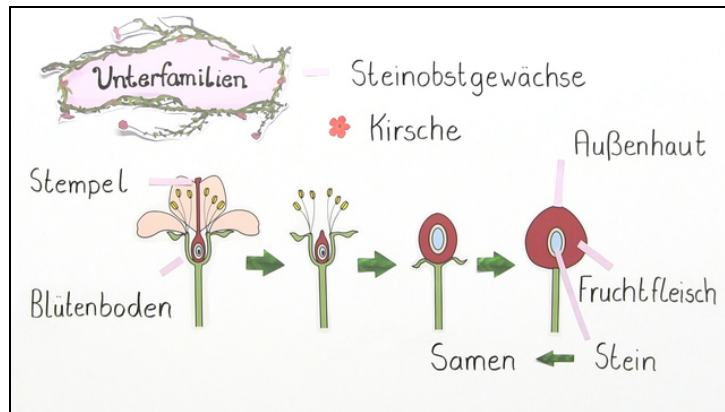




Arbeitsblätter zum Ausdrucken von [sofatutor.com](https://www.sofatutor.com)

# Rosengewächse – Was haben Erdbeere und Kirsche gemeinsam?



- 1 Bestimme, welche Pflanzen zu den Rosengewächsen gehören.
- 2 Nenne die Merkmale der Rosengewächse.
- 3 Bestimme die Unterfamilien der Früchte.
- 4 Gib die Funktionen der einzelnen Pflanzenorgane an.
- 5 Beschreibe die charakteristischen Eigenschaften weiterer Rosengewächse.
- 6 Bestimme die Systematik des Apfelbaums.
- + mit vielen Tipps, Lösungsschlüsseln und Lösungswegen zu allen Aufgaben







Das komplette Paket, inkl. aller Aufgaben, Tipps, Lösungen und Lösungswege gibt es für alle Abonnenten von [sofatutor.com](https://www.sofatutor.com)



## Bestimme, welche Pflanzen zu den Rosengewächsen gehören.

Wähle die korrekten Abbildungen aus.



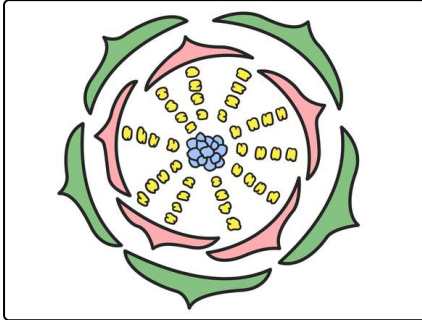


## Unsere Tipps für die Aufgaben

1  
von 6

### Bestimme, welche Pflanzen zu den Rosengewächsen gehören.

#### 1. Tipp



Hier im Blütendiagramm siehst du die Merkmale einer Blüte der Rosengewächse.

---



## Lösungen und Lösungswege für die Aufgaben

1  
von 6

### **Bestimme, welche Pflanzen zu den Rosengewächsen gehören.**

**Lösungsschlüssel:** A, C, E

Die Familie der Rosengewächse ist vielfältig. Zu ihr gehören unter anderem die Schlehe und der Kirschbaum. Die Hagebutte zählt zur Unterfamilie der eigentlichen Rosengewächse. Der Kohl und der Wiesensalbei gehören nicht zu den Rosengewächsen.