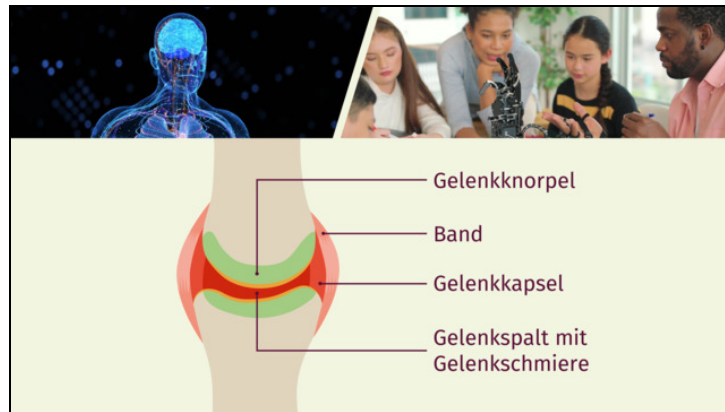




Arbeitsblätter zum Ausdrucken von [sofatutor.com](https://www.sofatutor.com)

Menschen – Stütz- und Bewegungssystem



- 1 **Benenne die drei Abschnitte des menschlichen Skeletts.**
- 2 Bestimme die Komponenten des Stütz- und Bewegungssystems.
- 3 Gib den schematischen Aufbau eines Gelenks wieder.
- 4 Erläutere die verschiedenen Komponenten des Stütz- und Bewegungssystems.
- 5 Beschreibe das Zusammenspiel von Muskeln und Sehnen beim Beugen und Strecken des Arms.
- 6 Entscheide, um welche Art von Verletzung des Stütz- und Bewegungssystems es sich handelt.
- + mit vielen Tipps, Lösungsschlüsseln und Lösungswegen zu allen Aufgaben



Das komplette Paket, **inkl. aller Aufgaben, Tipps, Lösungen und Lösungswege** gibt es für alle Abonnenten von [sofatutor.com](https://www.sofatutor.com)



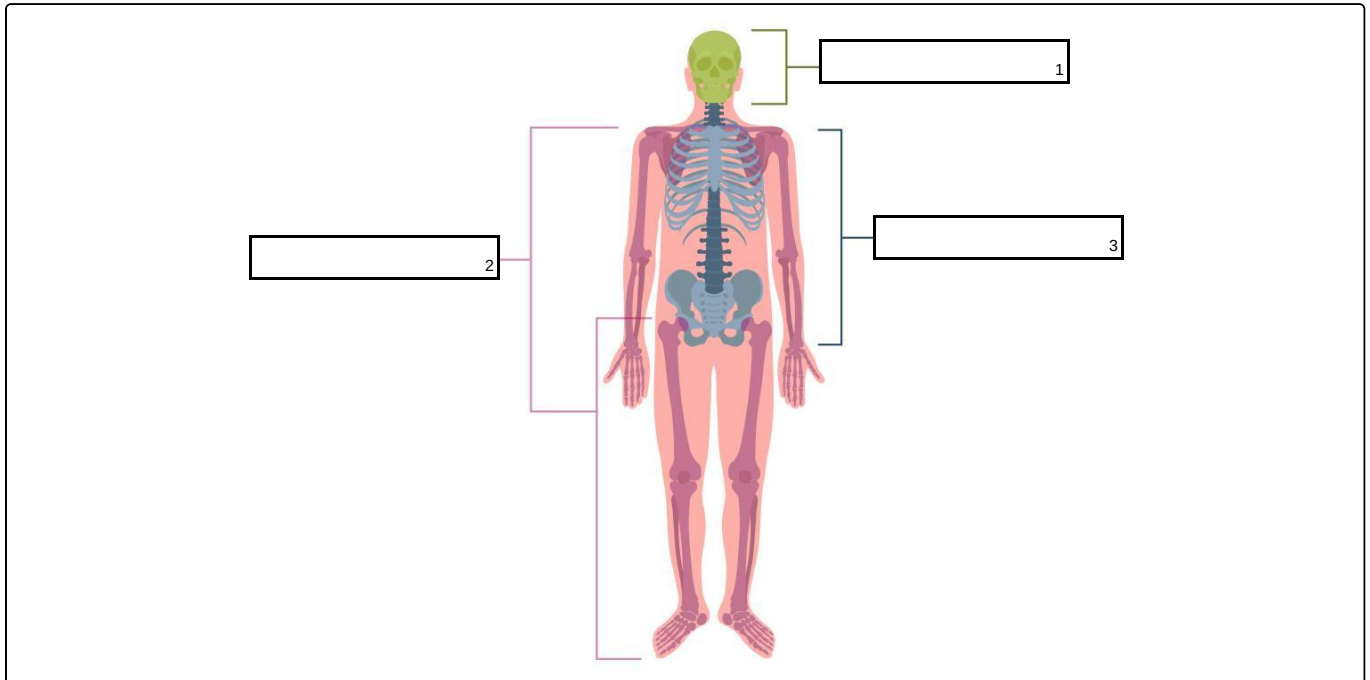
Benenne die drei Abschnitte des menschlichen Skeletts.

Setze jeden Begriff in die passende Lücke ein.

Kopfskelett

Rumpfskelett

Gliedmaßenskelett





Unsere Tipps für die Aufgaben

1
von 6

Benenne die drei Abschnitte des menschlichen Skeletts.

1. Tipp

Der **Rumpf** ist der zentrale Abschnitt des Körpers. Ein weiteres fachsprachliches Wort für ihn ist „Truncus“, was so viel wie „Stamm“ bedeutet.

2. Tipp

Die **Gliedmaßen** bilden die äußeren Bereiche des Körpers. Ein weiteres fachsprachliches Wort für sie ist „Extremitäten“, was so viel bedeutet wie „Äußerste“.

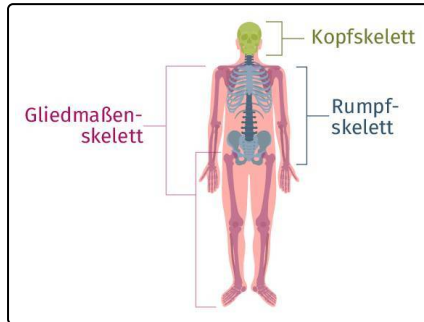


Lösungen und Lösungswege für die Aufgaben

1
von 6

Benenne die drei Abschnitte des menschlichen Skeletts.

Lösungsschlüssel: 1: Kopfskelett // 2: Gliedmaßenskelett // 3: Rumpfskelett



Unser Skelett besteht aus etwa **zweihundertsechs** Knochen. Es gibt unserem Körper seine **Form** und lässt sich in drei Abschnitte unterteilen, und zwar in das **Rumpfskelett**, das **Gliedmaßenskelett** und das **Kopfskelett**:

- Das **Kopfskelett** besteht aus **Hirnschädel** und **Kieferschädel**.
- Das **Rumpfskelett** setzt sich zusammen aus **Wirbelsäule** und **Brustkorb**. **Schultergürtel** und **Beckengürtel** verbinden die Extremitäten mit der Wirbelsäule.

• Das **Gliedmaßenskelett** besteht aus – jeweils für die linke und rechte Körperhälfte – **Oberarmknochen**, **Elle**, **Speiche**, **Oberschenkelknochen**, **Schienbein**, **Wadenbein** sowie jeweiligem **Handskelett** und **Fußskelett**.